



الدراسات الاجتماعية

الصف 3 الإعدادي

النماذج الاسترشادية
للفصل الدراسي الثاني لعام

2024

نموذج (١)

النموذج الأول بنظام البوكليت

أولاً: اختر الإجابة الصحيحة مما بين (أ) ، (ب) ، (ج) ، (د) :

- ١) تأتي قارة أمريكا الشمالية في المرتبة الأولى إنتاجاً لـ
 (أ) البنجر (ب) القمح (ج) الأرز (د) الذرة
- ٢) تنتشر على هوامش الغابات الاستوائية الزراعة
 (أ) الكثيفة (ب) التجارية (ج) الواسعة (د) البدائية
- ٣) تنتشر الزراعة البسيطة في المناطق
 (أ) المعتدلة (ب) الحارة (ج) الباردة (د) الغربية
- ٤) يوجد الرعى البدائي التقليدي في صحارى إفريقيا .
 (أ) شمال (ب) جنوب (ج) شرق (د) غرب
- ٥) تعد من دول الرعى التجارى في العالم
 (أ) الأرجنتين (ب) السعودية (ج) مصر (د) اليمن
- ٦) المنتج الثانى من حيث الأهمية للثروة الحيوانية
 (أ) الأصواف (ب) اللحوم (ج) الألبان (د) الجلود
- ٧) تسبق عملية التعدين عمليات
 (أ) إعداد المنجم (ب) البحث والكشف (ج) النقل (د) التوزيع
- ٨) أهم الدول العربية المصدرة للحديد
 (أ) الجزائر (ب) موريتانيا (ج) مصر (د) الأردن
- ٩) يعد من أهم المعادن المستخدمة في الصناعة معدن وعرف الإنسان استخدامه منذ آلاف السنين .
 (أ) النحاس (ب) الحديد (ج) الرصاص (د) المنجنيز
- ١٠) النشاط الاقتصادى الذى يعد مقياساً رئيسياً لتطور الشعوب وازدهارها
 (أ) التجارة (ب) الصناعة (ج) الرعى (د) الزراعة
- ١١) من المقومات الطبيعية للصناعة
 (أ) التطور العلمى (ب) الأسواق (ج) رأس المال (د) الموقع المتميز
- ١٢) من الدول النامية التى اقتربت من مستوى الدول المتقدمة
 (أ) المغرب (ب) اليابان (ج) مصر (د) أستراليا

١٣ دولة ميانمار تحد دولة الهند من جهة

- (أ) الجنوب الشرقي (ب) الجنوب الغربي
(ج) الشمال الشرقي (د) الشمال الغربي

١٤ الدولة التي تقع داخل حدود دولة الهند

- (أ) نيبال (ب) بوتان (ج) باكستان (د) بنجلاديش

١٥ تمتد جبال شمال دولة الهند.

- (أ) الهيمالايا (ب) الجانج (ج) الغات (د) ملبار

١٦ تحتل البرازيل وحدها حوالي مساحة قارة أمريكا الجنوبية.

- (أ) نصف (ب) ثلث (ج) ربع (د) خمس

١٧ دائرة عرض رئيسية تمر شمال دولة البرازيل هي

- (أ) مدار السرطان (ب) الدائرة القطبية (ج) دائرة الاستواء (د) مدار الجدي

١٨ يحد البرازيل من الشرق والشمال الشرقي المحيط

- (أ) الهادي (ب) الهندي (ج) القطبي الشمالي (د) الأطلنطي

١٩ يحد نيجيريا من الشمال دولة

- (أ) النيجر (ب) السنغال (ج) الكونغو (د) جنوب إفريقيا

٢٠ تحد دولة بنين دولة نيجيريا من جهة

- (أ) الشرق (ب) الغرب (ج) الجنوب (د) الشمال

٢١ تقع دولة نيجيريا على ساحل خليج

- (أ) غينيا (ب) المكسيك (ج) بسكاي (د) بنغال

٢٢ بموجب إذاعة البيان الأول لثورة ٢٣ يوليو ١٩٥٢ م أصبحت جميع قطاعات الجيش تحت سيطرة

- (أ) جمال عبد الناصر (ب) محمد نجيب
(ج) محمد أنور السادات (د) الملك فاروق

٢٣ من أهم إنجازات ثورة ٢٣ يوليو في المجال السياسي

- (أ) مجانية التعليم (ب) قوانين التأمينات الاجتماعية
(ج) تأميم شركة قناة السويس (د) بناء السد العالي

٢٤ صفقة الأسلحة الشرقية أحد إنجازات ثورة ٢٣ يوليو ١٩٥٢ في المجال

- (أ) السياسي (ب) الاقتصادي (ج) الاجتماعي (د) الدولي

٢٥) أعطى مؤتمر سان ريمو إبريل ١٩٢٠ م حق الانتداب على فلسطين لدولة

- (أ) فرنسا
(ب) الولايات المتحدة الأمريكية
(ج) بريطانيا
(د) إسبانيا

٢٦) عقد مؤتمر سان ريمو في

- (أ) فرنسا
(ب) إيطاليا
(ج) إنجلترا
(د) ألمانيا

٢٧) اختار الرئيس الراحل أنور السادات رئيساً لأركان حرب القوات المسلحة عام ١٩٧١ م.

- (أ) سعد الدين الشاذلي
(ب) محمد عبد الغنى الجمسى
(ج) أحمد إسماعيل
(د) عبد المنعم رياض

٢٨) من الدول العربية التى قدمت دعماً عسكرياً لمصر وسوريا فى حرب أكتوبر ١٩٧٣ م

- (أ) لبنان
(ب) الصومال
(ج) اليمن
(د) الكويت

٢٩) تأكدت الدعوة لمبدأ الأرض مقابل السلام بين العرب وإسرائيل من خلال مؤتمر

- (أ) سان ريمو
(ب) الآستانة
(ج) مدريد
(د) مونترو

٣٠) كانت بداية السلام العربى الإسرائيلى بسبب دعوة لها.

- (أ) إسرائيل
(ب) الولايات المتحدة الأمريكية
(ج) مصر
(د) روسيا

ثانياً: أجب عن الأسئلة الآتية:

٣١) بم تفسر...؟

الاستعانة بالقوات المسلحة أثناء ثورة ٢٥ يناير ٢٠١١ م.

٣٢) ماذا كان يحدث إذا...؟

أهملت الدولة مكانة المرأة فى الفترة من ١٩٨١ م حتى الآن.

٣٣) دلل تاريخياً على صحة العبارة الآتية:

نجحت مصر فى تذليل المعوقات التى تواجه تعميق العمل الإفريقى المشترك.

٣٤) بم تفسر...؟

يتركز ٥٠ ٪ من سكان الولايات المتحدة الأمريكية فى ولاية نيو إنجلند.

نموذج (٢)

النموذج الثاني بنظام البوكليت

أولاً: اختر الإجابة الصحيحة مما بين (أ) ، (ب) ، (ج) ، (د) :

- ١) تنتشر الزراعة الكثيفة في المناطق
 (أ) الحارة والمعتدلة (ب) الحارة (ج) المعتدلة (د) الباردة
- ٢) زراعة تهدف إلى الإنتاج الضخم
 (أ) البسيطة (ب) البدائية (ج) التجارية (د) الكثيفة
- ٣) امتلاك أستراليا لثروة هائلة من أغنام المارينو جعلها تصدر الإنتاج العالمي لـ
 (أ) اللحوم (ب) الألبان (ج) الأصواف (د) الجلود
- ٤) ثاني قارات العالم في تربية الأبقار هي قارة
 (أ) أمريكا الشمالية (ب) أوروبا (ج) إفريقيا (د) أمريكا الجنوبية
- ٥) من الدول النامية المشاركة في تصدير الحديد
 (أ) موريتانيا (ب) مصر (ج) السودان (د) تونس
- ٦) تعتبر الصين أولى دول العالم إنتاجاً لمعدن
 (أ) الحديد (ب) النحاس (ج) الفوسفات (د) اليورانيوم
- ٧) اتسع إقليم شمال شرق الولايات المتحدة ليشمل
 (أ) الألبلاش (ب) دلتا المسيسيبي (ج) روكي (د) البحيرات العظمى
- ٨) توجد أهم مراكز الصناعة الحديثة في أمريكا الشمالية بدولة
 (أ) كوبا (ب) شيلي (ج) بنما (د) المكسيك
- ٩) يعرف السهل الساحلي على خليج البنغال باسم سهل
 (أ) ملبار (ب) كروماندل (ج) مالوترا (د) براهماتيرا
- ١٠) تعد الهند أكبر دول العالم إنتاجاً لـ
 (أ) اللحوم (ب) الألبان (ج) الصوف (د) الجلود
- ١١) يسود سطح البرازيل المظهر
 (أ) الجبلي (ب) السهلي (ج) الهضبي (د) الصحراوي
- ١٢) تمتد سهول بين هضبة جيانا والبرازيل.
 (أ) الأمزون (ب) لابلاتا (ج) المسيسيبي (د) باراجواي

١٣) ينتهى نهر النيجر بدلتا واسعة فى

- (أ) السهول الشمالية
(ب) السهول الساحلية
(ج) هضبة جوس
(د) المنطقة الشرقية

١٤) يسود معظم دولة نيجيريا المناخ

- (أ) الاستوائى
(ب) المدارى
(ج) البحر المتوسط (د) الصحراوى

١٥) يحد ألمانيا من جهة الغرب دولة

- (أ) بولندا
(ب) التشيك
(ج) الدنمارك (د) فرنسا

١٦) تنتشر الغابات المخروطية والنفضية بألمانيا فى

- (أ) السهول الوسطى
(ب) المرتفعات الوسطى
(ج) جبال الفوج
(د) جبال الألب

١٧) يتبع شمال ألمانيا مناخ

- (أ) التندرا
(ب) البحر المتوسط
(ج) غرب أوروبا
(د) الموسمى

١٨) الولايات المتحدة الأمريكية القوة الاقتصادية فى العالم.

- (أ) الأولى
(ب) الثانية
(ج) الثالثة (د) الرابعة

١٩) تقع ولاية وسط المحيط الهادى.

- (أ) ألاسكا
(ب) بوسطن
(ج) هاواى (د) كاليفورنيا

٢٠) عقد مؤتمر باندونج لدول عدم الانحياز عام ١٩٥٥ م فى

- (أ) الهند
(ب) الصين
(ج) إندونيسيا (د) مصر

٢١) أولى الدول اعترافاً بقيام دولة إسرائيل فى ١٥ مايو ١٩٤٨ م الاتحاد السوفيتى سابقاً و

- (أ) اليابان
(ب) فرنسا
(ج) الولايات المتحدة الأمريكية
(د) بريطانيا

٢٢) رفضت الدول العربية مشروع تقسيم عام ١٩٤٧ م.

- (أ) فلسطين
(ب) مصر
(ج) السودان (د) سوريا

٢٣) استطاعت القوات المسلحة المصرية تدمير الخط الدفاعى الإسرائيلى المعروف باسم خط

- (أ) آلون
(ب) بارليف
(ج) الدفرسوار (د) بورفؤاد

٢٤) من الدول التى قدمت دعماً عسكرياً ومالياً لكل من مصر وسوريا فى حرب أكتوبر ١٩٧٣ م دولة

- (أ) السعودية
(ب) تونس
(ج) موريتانيا (د) اليمن

٢٥) دعا الرئيس إلى عقد مؤتمر كامب ديفيد.

- (أ) محمد أنور السادات (ب) بيجين
(ج) كارتر (د) روجرز

٢٦) التطبيق غير السليم لسياسة الخصخصة من الأسباب التي ساعدت على قيام ثورة ٢٥ يناير.

- (أ) السياسية (ب) الاجتماعية (ج) الاقتصادية (د) الثقافية

٢٧) استمرار العمل بقانون الطوارئ من الأسباب لثورة ٢٥ يناير ٢٠١١ م.

- (أ) الاجتماعية (ب) الاقتصادية (ج) السياسية (د) القانونية

٢٨) صدر في عهد الاحتلال دستور عام ١٩٢٣ م.

- (أ) البريطاني (ب) الفرنسي (ج) الروسي (د) الأمريكي

٢٩) يعد أعلى سلطة داخل جامعة الدول العربية.

- (أ) مجلس الجامعة (ب) الأمانة العامة
(ج) مجلس الوصاية (د) الجمعية العمومية

ثانيًا: أجب عن الأسئلة الآتية:

٣٠) بم تفسر...؟

تجود زراعة قصب السكر في البرازيل.

٣١) ماذا يحدث إذا...؟

لم تتطور حرفة صيد الأسماك في سواحل أمريكا الشمالية.

٣٢) ما النتائج المترتبة على...؟

حرب أكتوبر ١٩٧٣ م.

٣٣) ما العلاقة بين...؟

القوات المسلحة واستقرار الأوضاع في مصر في ٣٠ يونيو ٢٠١٣ م.

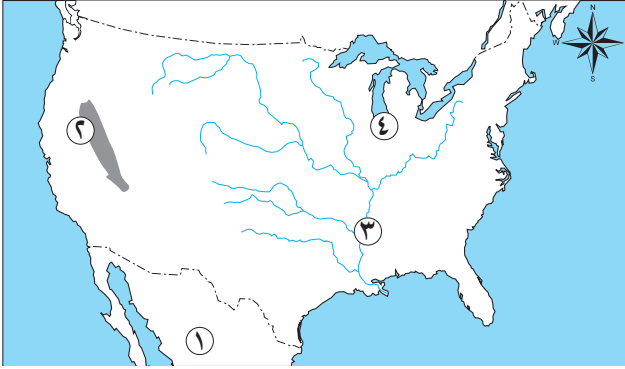
٣٤) دلل تاريخيًا على صحة العبارة الآتية: -

شهدت مرحلة ما بعد ثورة ١٩١٩ وحتى ثورة ٢٣ يوليو ١٩٥٢ م نهضة نسائية ودورًا رائدًا للمرأة في مختلف المجالات.

أولاً: الجغرافيا

السؤال الأول:

(١) أمامك خريطة صماء للولايات المتحدة الأمريكية، اكتب مدلول الأرقام الموقعة عليها:



- ١- دولة
- ٢- هضبة
- ٣- نهر
- ٤- مدينة تقع على بحيرة متشجن

(ب) صوب ما تحته خط في العبارات الآتية:

- ١- ينتج معظم المطاط في قارة أمريكا الجنوبية.
- ٢- تشتهر إندونيسيا بإنتاج الأصواف من أغنام المارينو.
- ٣- تمثل روسيا المركز الأول في الإنتاج العالمي للبترول.
- ٤- يحد نيجيريا من الجنوب المحيط الهادى.

(ج) قارن بين كل من:

(الهند - نيجيريا) من حيث: ١- مناطق التركيز السكاني. ٢- العاصمة.

وجه المقارنة	الهند	نيجيريا
مناطق التركيز السكاني
العاصمة

السؤال الثانى: (١) اختر الإجابة الصحيحة مما بين الأقواس:

- ١- يعتبر من محاصيل الألياف.
- ٢- تعد أحد مراكز الصناعة في شرق آسيا.
- ٣- تتمثل السهول الفيضية في الهند في سهول نهر في الجنوب. (الجانج - كوفرى - السند - ملبار)
- ٤- تنمو حشائش في شمال نيجيريا. (السافانا - الإستبس - التندرا - البرارى)

(ب) بم تفسر...؟

١- تتطلب الزراعة الكثيفة أيدى عاملة وفيرة.

.....

٢- انتشار مصايد الأسماك على سواحل شمال غرب أوروبا.

.....

٣- تركيز صناعة الألومنيوم في الدول المتقدمة.

٤- للفحم أهمية كبيرة منذ القرن الـ ١٨ الميلادي وحتى الوقت الحالي.

(ج) ما العلاقة بين كل من...؟

١- انتشار التعليم وسط آسيا والري البدائي.

٢- مصر والولايات المتحدة الأمريكية.

ثانياً: التاريخ

السؤال الثالث: (١) اكتب كلمة (صواب) أمام العبارة الصحيحة، وكلمة (خطأ) أمام العبارة غير الصحيحة مع التصويب:

- ١- ساهمت كل من مصر والهند ويوغسلافيا واندونيسيا في تشكيل حركة عدم الانحياز. ()
- ٢- مذبة ديرياسين من نتائج قرار تقسيم فلسطين ١٩٤٧ م. ()
- ٣- استعادت مصر نوبع بالتحكيم الدولي. ()
- ٤- أقر الدستور الدائم ١٩٧١ م حل الأحزاب السياسية. ()
- ٥- القضاء على مراكز القوى من الاستعدادات الداخلية لحرب ١٩٧٣ م. ()

(ب) ما النتائج المترتبة على...؟

١- معركة رأس العش.

٢- اجتماع وزراء النفط العربي بالكويت أثناء حرب أكتوبر ١٩٧٣ م.

٣- ثورة ٢٣ يوليو ١٩٥٢ م بالنسبة للمرأة المصرية.

٤- التطبيق غير السليم لسياسة الخصخصة في مصر.

(ج) ماذا كان يحدث إذا...؟

- لم يتخذ الرئيس السادات قرار مبادرة السلام.

السؤال الرابع: (١) اكتب ما تشير إليه العبارات الآتية:

- ١- منظمة تضم في عضويتها جميع دول العالم المستقلة ومقرها نيويورك. (.....)
- ٢- قيام الشعب بانتخاب ممثلين لإدارة شؤون الحكم وسن القوانين ومراقبة الحكومة. (.....)

- ٣- شغلت منصب رئيس اللجنة التشريعية بمجلس الشعب. (.....)
- ٤- رئيس المحكمة الدستورية العليا الذى أسند له حكم مصر فى ٢٠١٣ م. (.....)
- ٥- رئيس أركان حرب القوات المسلحة الذى مُنح اسمه قلادة النيل العظمى. (.....)

(ب) (تعددت الحروب والمواجهات بين إسرائيل والعرب منذ عام ١٩٤٨ م حتى ١٩٧٣ م)

فى ضوء هذه العبارة أجب عن الأسئلة الآتية:

١- **دلل:** تعتبر بريطانيا صانعة مشكلة فلسطين.

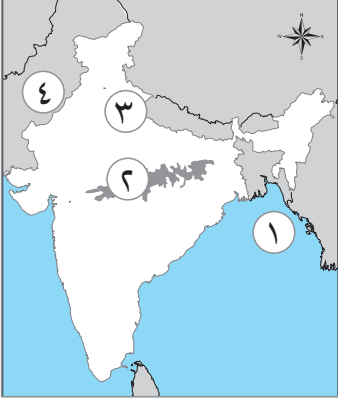
٢- **حدد سبب:** إغلاق خليج العقبة فى وجه الملاحة الإسرائيلية ١٩٦٧ م.

٣- **صوب ما فوق الخط:** ساندت مصر حركات التحرر الوطنى فى الجزائر ضد الاستعمار الإسرائيلى.

٤- **ما العلاقة بين:** حرب الاستنزاف ومبادرة روجرز؟

٥- **ما رأيك فى:** أثر السلام على السياحة؟

أولاً: الجغرافيا



السؤال الأول: (١) أمامك خريطة صماء لدولة الهند، اكتب ما تشير إليه الأرقام:

- ١- خليج
- ٢- هضبة
- ٣- مدينة
- ٤- دولة

(ب) (إن إشباع حاجات الإنسان هي المحرك الأساسي وراء تنوع الأنشطة الاقتصادية في العالم)

في ضوء العبارة السابقة وضح:

١- أهمية الزراعة .

٢- أثر الصحارى في نوع وتوزيع مناطق الرعى في العالم.

٣- مقترحاتك لزيادة إنتاج الطاقة في مصر (من خلال ما درست).

٤- عوامل انتشار حرفة الرعى في هضبة البرازيل . ثم وضح جهود الدولة لتعمير تلك الهضبة.

السؤال الثاني: (١) ما النتائج التي ترتبت على كل مما يأتي...؟

١- استخدام ألمانيا للتكنولوجيا والأساليب العلمية المتقدمة في الأنشطة الاقتصادية.

٢- توافر خام الحديد في دولة موريتانيا .

٣- انتشار المناخ الاستوائي والمدارى في قارة آسيا بالنسبة لصناعة إطارات السيارات.

٤- توافر المراعى الطبيعية في دولة الصين .

(ب) اكتب ما تشير إليه كل عبارة من العبارات التالية:

- ١- كتلة جبلية بها أعلى القمم الجبلية في جنوب دولة ألمانيا . (.....)
- ٢- أكبر الأقاليم الصناعية في العالم الجديد . (.....)
- ٣- أولى دول العالم إنتاجاً للسكر . (.....)
- ٤- دولة تسهم بحوالى ثلث إنتاج الأسماك في العالم . (.....)

ثانياً: التاريخ

السؤال الثالث : (ا) اكتب كلمة (صواب) أمام العبارات الصحيحة وكلمة (خطأ) أمام العبارات غير الصحيحة مع التصويب:

- ١- أصدرت ألمانيا وعد بلفور ١٩١٧ م لإنشاء وطن لليهود في فلسطين. ()
- ٢- أغلقت مصر خليج السويس في وجه الملاحه الإسرائيلية في مايو ١٩٦٧ م. ()
- ٣- نجحت القوات المصرية في هزيمة القوات الإسرائيلية في معركة رأس العش. ()
- ٤- تسلم السلطة في يوليو ٢٠١٣ م المستشار عدلى منصور رئيس المحكمة الدستورية العليا. ()
- ٥- نص دستور ١٩٥٦ م على أن السلطة التشريعية في يد مجلس منتخب هو مجلس الأمة. ()

(ب) ما المقصود بالمفاهيم التاريخية الآتية...؟

١- عدم الانحياز.

٢- الحياة النيابية.

٣- المنظمة الإقليمية.

(ج) ما العلاقة بين...؟

- منظمة الأمم المتحدة للتربية والعلوم والثقافة (اليونسكو) وحفظ التراث الثقافى والحضارى لمصر.

السؤال الرابع : (ا) لمن تنسب الأعمال التاريخية الآتية...؟

- ١- رئيس أركان قام بتنفيذ خطة عبور قناة السويس وتخطيط خط بارليف ١٩٧٣ م. (.....)
- ٢- بادر إلى زيارة إسرائيل من أجل السلام عام ١٩٧٧ م. (.....)
- ٣- أصدرت أول مجلة نسائية مصرية وهى (الريحانة) فبراير ١٩٠٧ م. (.....)
- ٤- أول رئيس للجمهورية المصرية في يونيو ١٩٥٣ م. (.....)

(ب) بم تفسر...؟

١- قيام حرب أكتوبر ١٩٧٣ م.

٢- الاستعانة بالقوات المسلحة المصرية في وقائع ثورة ٢٥ يناير ٢٠١١ م.

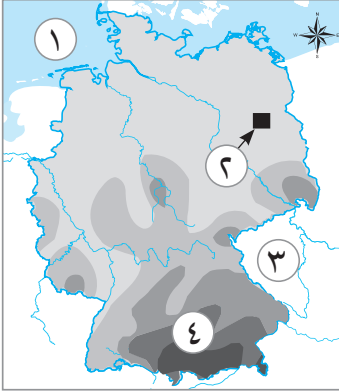
(ج) ما رأيك في...؟ مشاركة مصر في تأسيس واستضافة أول قمة إفريقية على أرضها عام ١٩٦٤ م.

نموذج (هـ)

أجب عن الأسئلة التالية:

أولاً: الجغرافيا

السؤال الأول: (١) أمامك خريطة صماء لدولة ألمانيا، اكتب ما تشير إليه الأرقام الموقعة عليها:



- ١- بحر
- ٢- العاصمة السياسية
- ٣- دولة
- ٤- جبال

(ب) بم تفسر...؟

١- تنوع المناخ في الولايات المتحدة الأمريكية.

٢- أهمية إنتاج المطاط في نيجيريا.

(ج) قارن بين كل من: البرازيل والهند، من حيث القارة التي تنتمي إليها ومناطق التركيز السكاني.

وجه المقارنة	البرازيل	الهند
القارة التي تنتمي إليها
مناطق التركيز السكاني

السؤال الثاني: (١) اختر الإجابة الصحيحة مما بين الأقواس:

- ١- تنتشر الزراعة البسيطة في المناطق
(المعتدلة - الحارة - الباردة - المعتدلة الباردة)
- ٢- تأتي مصر في مقدمة خمس دول عربية تقوم بتوليد الكهرباء من
(الفحم - البترول - الرياح - الطاقة النووية)
- ٣- من أهم المراكز الصناعية في إقليم غرب ووسط أوروبا الصناعي
(سيبيريا - موسكو - البحيرات العظمى - بريطانيا)
- ٤- يسود سطح البرازيل المظهر
(الجبلى - السهلى - الهضبي - الصحراوي)

(ب) دلل جغرافياً على صحة هذه العبارة الآتية (ترتبط مصر ونيجيريا بعلاقات قوية).

(ج) ماذا يحدث إذا...؟

١- تحولت مصر من نظام الزراعة الكثيفة إلى الزراعة العلمية والتجارية.

٢- توافرت الطاقة الكهربائية والخبرة الفنية في الدول النامية المنتجة للبوكسيت.

ثانياً: التاريخ

السؤال الثالث: (١) صوب ما تحته خط في العبارات الآتية:

١- أجبرت قوات الاحتلال في فبراير ١٩٤٢ م الملك فاروق على تعيين البارودي رئيساً للحكومة.

٢- أذيع البيان الأول لثورة يوليو ١٩٥٢ م من الإذاعة المصرية باسم جمال عبدالناصر.

٣- أعطى مؤتمر سان ريمو ١٩٢٠ م بريطانيا حق الانتداب على سوريا.

٤- استعادت مصر طابا من إسرائيل عن طريق قرار مجلس الأمن.

(ب) بم تفسر...؟

١- إنشاء الأمم المتحدة كمنظمة دولية عام ١٩٤٥ م.

٢- أهمية منظمة الفاو العالمية.

٣- كانت الحياة النيابية في عهد محمد على صورية .

السؤال الرابع: (١) دلل على صحة العبارتين التاليتين:

١- شهدت الفترة بين ١٩٢٣ - ١٩٥٢ تطوراً في الحياة النيابية.

٢- أنهت حرب أكتوبر ١٩٧٣ نظرية الأمن الإسرائيلي.

(ب) ما النتائج المترتبة على...؟

١- تحقيق السلام بالنسبة لمصر والوطن العربي.

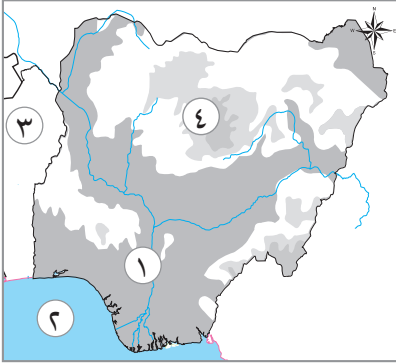
٢- ثورة ٢٣ يوليو ١٩٥٢ م بالنسبة للمرأة المصرية.

(ج) « أثبتت أحداث ثورة ٢٥ يناير ٢٠١١ عظمة القوات المسلحة المصرية ووقوفها بجانب الشعب »

في ضوء هذه العبارة وضح: دور القوات المسلحة خلال أحداث الثورة.

أولاً: الجغرافيا

السؤال الأول: (١) أمامك خريطة لدولة نيجيريا. اكتب ما تدل عليه الأرقام الموضحة عليها:



- ١- نهر
- ٢- خليج
- ٣- دولة
- ٤- هضبة

(ب) ما المقصود بالمفاهيم الجغرافية التالية ...؟

١- الزراعة الكثيفة.

٢- النشاط التعديني.

٣- مصادر الطاقة.

(ج) ما العلاقة بين ...؟

- انتشار التعليم في دول وسط آسيا والرعى البدائي.

(د) ما النتائج المترتبة على ...؟

١- استخدام الطرق العلمية والآلات في الزراعة التجارية والعلمية.

٢- عدم توافر الطاقة الكهربائية والخبرة الفنية في الدول النامية المنتجة للبوكسيت.

٣- الوحدة الاقتصادية الأوروبية.

٤- وقوع ألمانيا في نطاق مناخ غرب أوروبا (مناخياً).

السؤال الثاني: (١) اختر الإجابة الصحيحة مما بين الأقواس:

١- من المحاصيل التي تستخدم في تصنيع إطارات السيارات (المطاط الطبيعي - الكتان - القطن - الجوت)

٢- يأتي حوالي نصف إنتاج الأسماك في العالم من

(الأنهار - مزارع تربية الأسماك - المياه المالحة - البحيرات العذبة)

٣- أولى دول العالم إنتاجًا للبترول (الولايات المتحدة - السعودية - قطر - الهند)

٤- تنمو على السواحل الغربية والشرقية للهند الغابات (الباردة - المعتدلة - الاستوائية - الموسمية)

(ب) بم تشتهر المدن التالية؟

١- حيدرآباد. (.....)

٢- إيبادان. (.....)

٣- ميونغ. (.....)

(ج) ما مقترحاتك لتحقيق مصر الجودة في صناعتها؟

(د) قارن بين:

١- القمح والقطن من حيث: الأهمية - أولى القارات المنتجة.

وجه المقارنة	القمح	القطن
الأهمية
أولى القارات المنتجة

٢- الحديد والنحاس من حيث: الأهمية - أولى الدول المنتجة.

وجه المقارنة	الحديد	النحاس
الأهمية
أولى الدول المنتجة

ثانيًا: التاريخ

السؤال الثالث: (١) اكتب كلمة (صواب) أمام العبارة الصحيحة، وكلمة (خطأ) أمام العبارة غير الصحيحة، مع تصويب الخطأ:

١- ألغت ثورة يوليو ١٩٥٢ م دستور ١٩٢٣ م وحلت الأحزاب السياسية. (.....)

٢- رفضت هيئة الأمم المتحدة قرار تقسيم فلسطين ١٩٤٧ م. (.....)

٣- ساهمت السعودية والجزائر في تقديم الدعم العسكري والمالي لمصر في حرب أكتوبر ١٩٧٣ م. (.....)

٤- أصدرت بريطانيا وعد بلفور عام ١٩١٧ م لتأييد فكرة وطن لليهود في فلسطين. (.....)

٥- تحقق الانسحاب الإسرائيلي الكامل من سيناء في ٢٥ إبريل ١٩٨٢ م. (.....)

٦- نجحت مصر في حرب فلسطين ١٩٤٨ م في تدمير خط بارليف في ست ساعات. (.....)

(ب) ما النتائج المترتبة على...؟

١- العدوان الإسرائيلي على الدول العربية عام ١٩٦٧ م.

٢- التطبيق غير السليم لسياسة الخصخصة قبل ثورة ٢٥ يناير ٢٠١١ م.

السؤال الرابع (١) لمن تنسب الأعمال التاريخية الآتية...؟

- ١- تولى رئاسة الحكومة المصرية في فبراير ١٩٤٢ م. (.....)
- ٢- قاد خطة الخداع لصرف أنظار إسرائيل عن التجهيزات الهجومية أثناء حرب ١٩٧٣ م. (.....)
- ٣- رئيس أركان حرب أعاد بناء وتنظيم القوات المسلحة في حرب الاستنزاف. (.....)
- ٤- رئيس أمريكي ساعد في التوصل إلى اتفاق للسلام بين مصر وإسرائيل في كامب ديفيد. (.....)
- ٥- انتخبت رئيسة للجنة الوفد للسيدات عام ١٩٢٠ م. (.....)
- ٦- أنشأ مجلس شورى النواب ديسمبر ١٨٦٦ م. (.....)

(ب) ما المقصود بالمفاهيم الآتية...؟

١- عدم الانحياز.

٢- المنظمات الإقليمية.

(ج) ما رأيك في...؟ الاستعانة بالقوات المسلحة المصرية في أثناء ثورة ٢٥ يناير ٢٠١١ م.

أولاً: الجغرافيا



السؤال الأول: (١) أمامك خريطة صماء لجمهورية الهند، وضح مدلول الأرقام الموضحة عليها:

- ١- نهر
- ٢- المحيط
- ٣- مدينة
- ٤- دولة

(ب) اكتب ما تشير إليه العبارات الآتية:

- ١- زراعة الأرض أكثر من مرة في العام لإشباع حاجة السكان. (.....)
- ٢- يستخرج من عصارة أشجار استوائية، وتصنع منه إطارات السيارات. (.....)
- ٣- أكبر الأقاليم الصناعية في العالم الجديد. (.....)

(ج) بم تفسر...؟

١- توطن صناعة الألومنيوم في الدول المتقدمة.

.....

٢- قلة السكان في دلتا النيجر.

.....

٣- تختلف الخصائص المناخية للسهول الوسطى في الولايات المتحدة من منطقة إلى أخرى .

.....

السؤال الثاني (١) اكتب كلمة (صواب) أمام العبارة الصحيحة، وكلمة (خطأ) أمام العبارة غير الصحيحة:

- ١- تعد قارة آسيا أولى قارات العالم إنتاجاً للقمح. ()
- ٢- تشتهر أستراليا بإنتاج الأصواف من أغنام المارينو. ()
- ٣- يتم اصطياد الحيتان من البحار للاستفادة من لحومها وشحومها. ()
- ٤- يتم إنتاج الكهرباء النووية من المحطات النووية السلمية. ()
- ٥- ولاية ألاسكا عبارة عن مجموعة من الجزر تقع وسط المحيط الهادى. ()

(ب) اتجه الإنسان بالفطرة نحو إشباع حاجاته من مأكل ومشرب ومأوى حتى وصل إلى الإنتاج الصناعى المتطور.

في ضوء العبارة وضح ما يلى:

١- أهمية الإنتاج الزراعى.

.....

٢- وجه الشبه بين الفحم والغاز الطبيعي.

٣- علاقة الصناعة بتقدم الدول.

ثانياً: التاريخ

السؤال الثالث: (ا) اكتب كلمة (صواب) أمام العبارة الصحيحة، وكلمة (خطأ) أمام العبارة غير الصحيحة:

- ١- منح المرأة المصرية حق الانتخاب والترشح لمجلس الأمة من الإنجازات السياسية لثورة ٢٣ يوليو ١٩٥٢ م. ()
- ٢- مذبحه ديرياسين رد فعل من اليهود على قرار تقسيم فلسطين. ()
- ٣- استجابت إسرائيل لتنفيذ قرار مجلس الأمن ٢٤٢. ()
- ٤- شاركت مصر في مؤتمر مدريد للسلام ١٩٩١ م على أساس مبدأ الأرض مقابل السلام. ()
- ٥- اتسع الدور المصري ليشمل حركات ومنظمات إقليمية لتعزيز التعاون الدولي. ()
- ٦- مجلس الأمة أصبح يمثل السلطة التشريعية بموجب دستور ١٩٥٦ م. ()

(ب) ما النتائج المترتبة على ...؟

١- إذاعة البيان الأول للثورة من الإذاعة المصرية ٢٣ يوليو ١٩٥٢ م.

٢- إدراك بريطانيا أهمية فلسطين.

٣- تهيئة وإعداد الجبهة العربية لحرب أكتوبر ١٩٧٣ م.

٤- إنشاء الجهاز القضائي الأساسي للأمم المتحدة.

السؤال الرابع: (ا) اكتب ما تشير إليه العبارات الآتية:

- ١- حركة أظهرت الدور الرائد لمصر في المجال الدولي. ()
- ٢- حرب ترتب عليها وضع الضفة الغربية لفلسطين تحت إدارة القوات الأردنية. ()
- ٣- سياسة اقتصادية قامت على أساس بيع مؤسسات الدولة لصالح فئة معينة من رجال الأعمال. ()
- ٤- أنشأ أول مدرسة لتعليم البنات ١٨٧٣ م. ()
- ٥- منظمة تهدف إلى تعزيز العمل العربي المشترك في مختلف المجالات. ()
- ٦- تولى رئاسة مصر عقب دستورينا ٢٠١٤ م. ()

(ب) ما العلاقة بين ...؟

- حرب الاستنزاف والولايات المتحدة.

(ج) إن اختيار السلام بدلاً من الحرب التي تستنزف كافة الموارد الاقتصادية والبشرية يعود بالنفع على وطننا العربي.

في ضوء العبارة السابقة أيد بالأدلة:

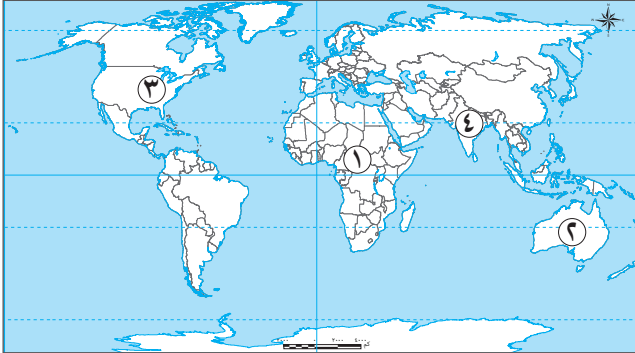
١- السلام يعود بالنفع على وطننا العربي.

٢- قام العرب بإحكام الحصار الاقتصادي على إسرائيل ١٩٦٧ م.

٣- أهمية الدور الذي قام به المشير إسماعيل في حرب ١٩٧٣ م.

أولاً: الجغرافيا

السؤال الأول: (١) أمامك خريطة العالم، وضع مدلول الأرقام الموضحة عليها:



- ١- نوع الزراعة السائدة
- ٢- أولى الدول إنتاجاً لليوكسيت
- ٣- إقليم صناعي
- ٤- أكبر الدول إنتاجاً للألبان

(ب) أدى تنوع الموارد الطبيعية إلى اختلاف الأنشطة الاقتصادية في العالم. في ضوء هذه العبارة وضح أسباب:

- ١- إنتاج الصين لأكثر من ثلث الإنتاج العالمي من الأسماك.

- ٢- القيمة الاقتصادية للثروة الحيوانية في الهند محدودة.

(ج) اكتب ما تشير إليه كل عبارة من العبارات الآتية:

- ١- العاصمة الاقتصادية لنيجيريا وأكثرها تكدساً بالسكان. (.....)
- ٢- يستخرج من عصارة أشجار استوائية وتصنع منه إطارات السيارات. (.....)

السؤال الثاني: (١) اختر الإجابة الصحيحة مما بين الأقواس:

- ١- البرازيل أولى دول العالم إنتاجاً لمحصول (القمح - قصب السكر - القطن - المطاط)
- ٢- ينتج ثلثا الإنتاج العالمي للقطن من قارة (أمريكا الشمالية - إفريقيا - آسيا - أوروبا)
- ٣- العاصمة السياسية لألمانيا (بيرن - ميونخ - برلين - هامبورج)
- ٤- أكبر دول العالم إنتاجاً للبترو (أستراليا - روسيا - السعودية - الصين)
- ٥- تأتي مصر في مقدمة خمس دول تقوم بتوليد الكهرباء من (الرياح - البترول - الغاز الطبيعي - الفحم)
- ٦- يحد نيجيريا من الشرق دولة (بنين - تشاد - النيجر - السنغال)

(ب) بم تفسر...؟

- ١- توطن صناعة الألومنيوم في الدول المتقدمة.

- ٢- قلة عدد القائمين بحرفة الرعي البدائي في شبه الجزيرة العربية.

ثانياً: التاريخ

السؤال الثالث: (ا) اختر الإجابة الصحيحة مما بين الأقواس:

- ١- أحد إنجازات ثورة ١٩٥٢ م السياسية
(القضاء على الإقطاع - تحديد ساعات العمل - بناء السد العالي - إلغاء الملكية وإعلان الجمهورية)
- ٢- وافقت هيئة الأمم المتحدة عام ١٩٤٧ م على
(تقسيم فلسطين - تقسيم القدس - الانتداب البريطاني على فلسطين - انسحاب اليهود من فلسطين)
- ٣- إحكاماً للحصار الاقتصادي العربي على إسرائيل عام ١٩٦٧ م أغلقت مصر
(خليج السويس - مضيق باب المندب - خليج العقبة - قناة السويس)
- ٤- عادت طابا للسيادة المصرية مرة أخرى عن طريق
(القوات العسكرية - التحكيم الدولي - المبادرات السلمية - المعاهدات الدولية)
- ٥- الجهاز القضائي الأساسي للأمم المتحدة ومقرها لاهاى بهولندا
(الأمانة العامة - الجمعية العامة - محكمة العدل الدولية - منظمة اليونسكو)

(ب) دلل تاريخياً على صحة العبارات الآتية:

- ١- كان للانتخابات البرلمانية عام ٢٠١٠ م دور مهم في قيام ثورة يناير ٢٠١١ م.
- ٢- لمصر دور أساسي في منظمة الاتحاد الإفريقي.

(ج) ماذا كان يحدث إذا...؟

- فشل مؤتمر كامب ديفيد عام ١٩٧٨ م.

السؤال الرابع: (ا) إلى من تنسب الأعمال التاريخية الآتية...؟

- ١- قام بتأسيس تنظيم الضباط الأحرار. (.....)
- ٢- قدم مبادرة لوقف إطلاق النار بين مصر وإسرائيل أثناء حرب الاستنزاف. (.....)
- ٣- تولى القيادة العامة الموحدة للقوات المصرية السورية في حرب أكتوبر ١٩٧٣. (.....)
- ٤- أنشأ مجلس شورى النواب عام ١٨٦٦ م. (.....)
- ٥- أول وزيرة للشئون الاجتماعية في مصر عام ١٩٦٢ م. (.....)

(ب) ترجع أهمية فلسطين لبريطانيا إلى أنها تعد خط الدفاع من الجهة الشمالية لمستعمراتها في الشرق. في ضوء العبارة وضع ما يلي:

- ١- أهمية فلسطين في قلب كل عربي.

- ٢- إجراءات بريطانيا لتنفيذ وعد بلفور.

- ٣- موقف مصر من اتفاقية أوسلو ١٩٩٣ م.

أولاً: الجغرافيا

السؤال الأول: (١) أمامك خريطة صماء لدولة البرازيل. اكتب مدلول الأرقام الموجودة عليها:



- ١- مدينة
- ٢- مدار
- ٣- نهر
- ٤- المحيط

(ب) بم تفسر...؟

١- قلة عدد القائمين على حرفة الرعى البدائي في دول وسط آسيا.

.....

٢- أهمية مصادر الطاقة.

.....

٣- أسعار البترول في زيادة مستمرة.

.....

٤- قلة التكاليف والعمالة في الزراعة التجارية.

.....

(ج) صوب ما تحته خط:

١- أولى دول العالم إنتاجاً للشاي تايلاند.

٢- الخام الرئيسى لمعدن الألومنيوم النحاس.

٣- يتم صيدها من المحيطات للاستفادة من لحومها وشحومها السيب.

٤- أولى قارات العالم إنتاجاً للطاقة النووية أمريكا الشمالية.

السؤال الثاني: (١) اختر الإجابة الصحيحة مما بين الأقواس:

١- تتركز زراعة البنجر في بعض دول قارة أوروبا مثل (سويسرا - روسيا - فرنسا - إيطاليا)

٢- تسبق عملية التعدين عمليات (النقل - مد الخطوط الحديدية - البحث - التوزيع)

٣- تتعدد مراكز الصناعات الحديثة بجنوب شرق آسيا ومنها دولة (اليابان - ماليزيا - كوريا - الصين)

٤- بسبب ارتفاع مستوى المعيشة زاد معدل الاستهلاك العالمى من

(الدواجن - الأسماك - اللحوم الحمراء - الجلود)

٥- تأتي في المرتبة الأولى إنتاجاً للذرة قارة

(أمريكا الجنوبية - أمريكا الشمالية - إفريقيا - أستراليا)

(ب) قارن بين كل من دولة البرازيل ودولة ألمانيا:

الدولة	الغابات	أهم المحاصيل	العاصمة	ما تصدره إلى مصر
البرازيل
ألمانيا

(ج) ما مقترحاتك: للنهوض بالزراعة؟

ثانياً: التاريخ

السؤال الثالث (١) إلى من تنسب الأعمال التاريخية الآتية...؟

- ١- الرئيس المصرى الذى زار إسرائيل من أجل السلام ١٩٧٧ م. (.....)
- ٢- رئيس المحكمة الدستورية العليا الذى تسلم سلطة الحكم فى مصر عقب ثورة ٢٠١٣ م. (.....)
- ٣- أنشأ مجلس شورى النواب. (.....)
- ٤- أول رئيس لجمهورية مصر العربية. (.....)

(ب) دلل تاريخياً على صحة العبارات الآتية:

١- لقد اهتمت ثورة ٢٣ يوليو ١٩٥٢ م بالتعليم.

٢- لمنظمة اليونسكو دور فى المحافظة على الآثار المصرية.

٣- كان للاتحاد السوفيتى دور فى فشل العدوان الثلاثى على مصر.

السؤال الرابع (١) أكمل العبارات الآتية بما يناسبها من كلمات :

١- قامت ثورة ٢٣ يوليو سنة ١٩٥٢ ضد الملك

٢- منظمة الاتحاد الإفريقي من أمثلة المنظمات

٣- أول مجلة نسائية مصرية هي

٤- شغلت الدكتوراة منصب رئيس اللجنة التشريعية بمجلس الشعب.

٥- من أسباب قيام ثورة ٢٥ يناير ٢٠١١م استمرار العمل بقانون

(ب) (لقد تعددت الحروب والصراعات بين العرب وإسرائيل) . في ضوء هذه العبارة أجب عما يأتي:

١- كيف استطاعت مصر تهئية وإعداد الجبهة العربية لحرب أكتوبر ١٩٧٣م؟

.....

٢- ما موقف الدول العربية من مشروع تقسيم فلسطين ١٩٤٧م؟

.....

٣- الهزيمة التي قامت إسرائيل بالاستيلاء عليها من سوريا في حرب ٥ يونيو ١٩٦٧م؟

.....

٤- ما دور وزراء النفط العرب أثناء حرب أكتوبر ١٩٧٣م؟

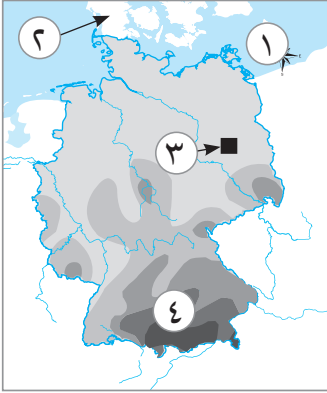
.....

٥- ما رأيك في استعادة مصر لطابا؟

.....

أولاً: الجغرافيا

السؤال الأول: (١) أمامك خريطة صماء لدولة ألمانيا، اكتب مدلول الأرقام الموقعة عليها:



١- البحر.....

٢- دولة.....

٣- العاصمة.....

٤- جبال.....

(ب) نيجيريا إحدى دول غرب إفريقيا، وهى دولة غنية بالثروات المختلفة.

في ضوء هذه العبارة أجب عما يأتى:

١- ما الدولة التى تحد دولة نيجيريا من ناحية الغرب؟

.....

٢- أين يزرع الأرز في دولة نيجيريا؟

.....

٣- ما السبب في وجود أعداد كبيرة من الأبقار والأغنام والماعز في نيجيريا؟

.....

(ج) صوب ما تحته خط في العبارات الآتية:

١- الغذاء الرئيسى لمعظم شعوب العالم هو محصول الذرة.

٢- معظم إنتاج الصين من اللحوم الحمراء من لحوم الأبقار.

٣- يحد دولة البرازيل من الشرق والشمال الشرقى المحيط الهادى.

السؤال الثانى: (١) اختر الإجابة الصحيحة مما بين الأقواس:

١- تصنع إطارات السيارات من (البنجر - القطن - المطاط الطبيعى - الشاي)

٢- من أهم الدول المنتجة للنحاس في العالم دولة (موريتانيا - السعودية - تايلاند - شيلي)

٣- من المقومات البشرية للصناعة توافر.....

(الأيدى العاملة الماهرة - المواد الخام - مصادر الطاقة - الموقع المتميز)

٤- جزيرة هنشو اليابانية تنتمى إلى إقليم الصناعى.

(غرب أوروبا - شرق آسيا - شمال شرق الولايات المتحدة - روسيا وأوكرانيا)

(ب) بم تفسر...؟

١- تعد البرازيل من الدول المنتجة للأسماءك.

.....

٢- أهمية الغاز الطبيعي الاقتصادية.

٣- أهمية تربية الدواجن في كل دول العالم.

ثانيًا: التاريخ

السؤال الثالث: (ا) صوب ما تحته خط:

- ١- أذيع البيان الأول لثورة ٢٣ يوليو ١٩٥٢ م بصوت محمد نجيب.
- ٢- أعطى مؤتمر مونترلو لبريطانيا حق الانتداب على فلسطين.
- ٣- من المجالس الاستشارية في عهد الاحتلال البريطاني مجلس المشورة.
- ٤- تولت مصر رئاسة الاتحاد الإفريقي للمرة الثانية في فبراير ٢٠١٩ م برئاسة الرئيس عبد الفتاح السيسي.

(ب) دلل تاريخياً على صحة كل عبارة من العبارات الآتية:

- ١- اهتمت ثورة ٢٣ يوليو ١٩٥٢ م بالعمال.
- ٢- كان رد فعل بريطانيا بعد قرار تقسيم فلسطين ١٩٤٧ م لصالح اليهود.
- ٣- أنهت حرب أكتوبر ١٩٧٣ م نظرية الأمن الإسرائيلية.
- ٤- لجأت مصر إلى الطرق السلمية لاستعادة طابا.

(ج) ماذا كان يحدث إذا...؟

- ١- لم تؤيد مصر حركات التحرر الوطني في الجزائر.
- ٢- لم تشكل اللجان الشعبية أثناء ثورة ٢٥ يناير ٢٠١١ م.

السؤال الرابع: (ا) في عهد أى من حكام مصر تم تحقيق الآتى...؟

- ١- تأسيس تنظيم الضباط الأحرار. (.....)
- ٢- تدمير المدمرة الإسرائيلية إيلات بصواريخ البحرية المصرية في أكتوبر ١٩٦٧ م. (.....)
- ٣- القضاء على مراكز القوى. (.....)
- ٤- التطبيق غير السليم لسياسة الخصخصة وبيع مؤسسات الدولة بأقل من سعرها الحقيقي. (.....)

(ب) بم تفسر...؟

١- تقديم الولايات المتحدة لمبادرة روجرز.

.....

٢- قيام الرئيس السادات بزيارة إسرائيل عام ١٩٧٧ م.

.....

٣- الأمم المتحدة منظمة دولية.

.....

(ج) ما النتائج المترتبة على...؟

١- صدور دستور ١٩٥٦ م بالنسبة للمرأة المصرية.

.....

٢- تعاون منظمة اليونسكو مع مصر.

.....

(د) ما رأيك في...؟

- قيام مصر بحرب أكتوبر ١٩٧٣ م.

.....



الدراسات الاجتماعية

الصف 3 الإعدادي

الإجابات النموذجية للنماذج الاسترشادية

للفصل الدراسي الثاني لعام

2024

نموذج (١)

أولاً:

- | | | |
|----------------------|--------------------------------|---------------------------|
| ١- (د) الذرة | ٢- (د) البدائية | ٣- (ب) الحارة |
| ٤- (أ) شمال | ٥- (أ) الأرجنتين | ٦- (ج) الألبان |
| ٧- (ب) البحث والكشف | ٨- (ب) موريتانيا | ٩- (ب) الحديد |
| ١٠- (ب) الصناعة | ١١- (د) الموقع المتميز | ١٢- (ج) مصر |
| ١٣- (ج) الشمال الشرق | ١٤- (د) بنجلاديش | ١٥- (أ) الهيمالايا |
| ١٦- (أ) نصف | ١٧- (ج) دائرة الاستواء | ١٨- (د) الأطلس |
| ١٩- (أ) النيجر | ٢٠- (ب) الغرب | ٢١- (أ) غينيا |
| ٢٢- (ب) محمد نجيب | ٢٣- (ج) تأميم شركة قناة السويس | ٢٤- (د) الدولي |
| ٢٥- (ج) بريطانيا | ٢٦- (ب) إيطاليا | ٢٧- (أ) سعد الدين الشاذلي |
| ٢٨- (د) الكويت | ٢٩- (ج) مدريد | ٣٠- (ج) مصر |

ثانياً:

- ٣١- لحماية أمن الممتلكات والمواطنين.
- ٣٢- لم يتم إنشاء المجلس القومي للمرأة، ولم تقلد بعض الوظائف والمناصب المختلفة.
- ٣٣- حيث قامت بـ:
- ربط الأسواق الإفريقية وتفعيل اتفاقية التجارة الحرة.
- تشجيع سواعد أبناء القارة الإفريقية على بناء المشروعات القارية الرائدة لتطوير البنية التحتية الإفريقية.
- ٣٤- بسبب وجود المدن الكبرى، وتركز المناطق الصناعية والتجارية الكبرى مثل نيويورك.

نموذج (٢)

أولاً:

- | | | |
|------------------------------------|--------------------|----------------------|
| ١- (١) الحارة والمعتدلة | ٢- (ج) التجارية | ٣- (ج) الأصواف |
| ٤- (د) أمريكا الجنوبية | ٥- (١) موريتانيا | ٦- (١) الحديد |
| ٧- (د) البحيرات العظمى | ٨- (د) المكسيك | ٩- (ب) كروماندل |
| ١٠- (ب) الألبان | ١١- (ج) الهضبي | ١٢- (١) الأمزون |
| ١٣- (ب) السهول الساحلية | ١٤- (ب) المدارى | ١٥- (د) فرنسا |
| ١٦- (د) جبال الألب | ١٧- (ج) غرب أوروبا | ١٨- (١) الأولى |
| ١٩- (ج) هاواى | ٢٠- (ج) إندونيسيا | |
| ٢١- (ج) الولايات المتحدة الأمريكية | ٢٢- (١) فلسطين | ٢٣- (ب) بارليف |
| ٢٤- (١) السعودية | ٢٥- (ج) كارتر | ٢٦- (ج) الاقتصادية |
| ٢٧- (ج) السياسية | ٢٨- (١) البريطاني | ٢٩- (١) مجلس الجامعة |

ثانياً:

- ٣٠- بسبب توافر ظروف زراعته في دولة البرازيل، ومنها درجة حرارة مرتفعة، وكمية مياه وفيرة.
- ٣١- لم تصبح من أولى قارات العالم في تصدير الأسماك .
- ٣٢- أدى إلى: انتهاء حالة اللاسلم واللاحرب واستعادة الأراضي المحتلة - تحطيم أسطورة الجيش الإسرائيلي الذي لا يقهر- تقويض أسس العقيدة القتالية للقوات الإسرائيلية- إنهاء نظرية الأمن الإسرائيلية - إظهار أهمية استخدام سلاح النفط العربي- التأثير في العلاقة بين إسرائيل وبعض الدول المحبة للسلام في آسيا وأوروبا وإفريقيا.
- ٣٣- حيث تدخلت القوات المسلحة في الحفاظ على الأمن العام للدولة في أحداث ثورة ٣٠ يونيو ٢٠١٣ م.
- ٣٤- حيث :
- شاركت المرأة في المظاهرات بعد نفى سعد زغلول في مارس ١٩١٩ م.
 - تشكيل لجنة الوفد المركزية للسيدات عام ١٩٢٠ م، وانتخاب هدى شعراوي رئيسة لها.
 - التحقت المرأة بالجامعة المصرية عام ١٩٢٨ م (جامعة القاهرة حالياً).

أولاً: الجغرافيا

إجابة السؤال الأول:

- (١) ١- المكسيك ٢- كلورادو ٣- الميسيسيبي ٤- شيكاغو
(ب) ١- آسيا ٢- أستراليا ٣- السعودية ٤- الأطلنطي
(ج)

وجه المقارنة	الهند	نيجيريا
مناطق التركيز السكاني	• يتركز السكان في: السهول الساحلية والفيضية؛ حيث المدن الرئيسية مثل (مومباي ونيودلهي).	• يتركز السكان في الغرب والسهول الشمالية وهضبة جوس.
العاصمة	نيودلهي	أبوجا

إجابة السؤال الثاني:

- (١) ١- الجوت ٢- كوريا ٣- كوفري ٤- السافانا
(ب) ١- لأنها تتم من خلال بذر الحبوب والرى وتنقية الحشائش.
٢- حيث تتوافر بها العوامل الطبيعية والبشرية التي تساعد في تطور هذه الحرفة.
٣- بسبب توافر مقومات صناعة الألومنيوم من: طاقة كهربائية - خبرة علمية وفنية ومتطورة - سوق محلية وخارجية تستوعب الإنتاج .
٤- لأن الفحم يستخدم كمصدر رئيسي في الصناعة في الدول الصناعية الكبرى، ويستخدم في توليد الكهرباء وغيرها.
(ج) ١- حيث قل عدد القائمين بحرفة الرعى بين قبائل وسط آسيا بسبب انتشار التعليم.
٢- علاقات قوية في جميع المجالات (التعاون الاقتصادي والتكنولوجي والثقافي والعلمي).

ثانياً: التاريخ

إجابة السؤال الثالث:

- (١) ١- (صواب) ٢- (صواب) ٣- (خطأ) طابا
٤- (خطأ) ثورة ٢٣ يوليو ١٩٥٢ م ٥- (صواب)
(ب) ١- أدى إلى نجاح القوات المصرية في هزيمة القوات الإسرائيلية عندما حاولت احتلال مدينة بورفؤاد.
٢- أدى إلى خفض إنتاج البترول وحظر تصدير البترول (الصادرات النفطية) إلى الولايات المتحدة؛ بسبب تقديم الرئيس الأمريكي مساعدات عاجلة لإسرائيل.

٣- تم منح المرأة حق الانتخاب والترشح لمجلس الأمة عام ١٩٥٦م.

٤- أدى إلى قيام ثورة ٢٥ يناير عام ٢٠١١م.

(ج) لم يتم تمهيد الطريق أمام إسرائيل لقبول مبدأ التفاوض بين الأطراف المهتمة والمعنى بالقضية.

إجابة السؤال الرابع:

(١) ١- الأمم المتحدة ٢- الحياة النيابية ٣- آمال عثمان

٤- عدلى منصور ٥- الفريق سعد الدين الشاذلى

(ب) ١- حيث إن بريطانيا هي التي أصدرت وعد بلفور عام ١٩١٧م لإنشاء وطن قومي لليهود في فلسطين.

٢- لإحكام الحصار الاقتصادي الذي يفرضه العرب على إسرائيل.

٣- الفرنسي.

٤- نتيجة لحرب الاستنزاف تدخلت الولايات المتحدة، وقدم وزير خارجيتها مبادرة روجرز لوقف إطلاق النار، والتمهيد لحل النزاع سلمياً.

٥- يجيب عنه الطالب في ضوء المزايا التي تعود من تحقيق السلام في قطاع السياحة، ومنها:

- تنشيط السياحة، مما يؤدي إلى زيادة الدخل القومي وتوفير العملات الأجنبية.

أولاً: الجغرافيا

إجابة السؤال الأول:

- (١) ١- البنغال ٢- الدكن ٣- نيودلهي ٤- باكستان
- (ب) ١- لأنها تعتبر مصدراً رئيسياً لغذاء الإنسان بجانب الأسماك والحيوانات، ويرتبط بتربية الحيوانات، و مصدر مهم للمواد الخام الزراعية التي تدخل في الصناعة.
- ٢- تؤثر الصحارى في نوع الرعى نظراً لندرة الأمطار بها، ولذلك ينتشر الرعى البدائي في مناطق الصحارى، وينتشر الرعى البدائي في مساحات واسعة في قارات العالم.
- ٣- يجيب عنه الطالب في ضوء المقترحات الآتية: زيادة إنتاج الكهرباء من أنواع الطاقات المتجددة مثل: الطاقة الشمسية، وطاقة الرياح، والطاقة الكهرومائية.
- ٤- لوجود المراعى الدائمة في شمال هضبة البرازيل - أنشأت البرازيل عدة مدن جديدة لتعمير هضبة البرازيل.

إجابة السؤال الثاني:

- (١) ١- أصبحت ألمانيا من أكثر دول العالم تقدماً، ومن أقوى الاقتصاديات العالمية خاصة في الصناعة التي تعد العمود الفقري للاقتصاد الألماني.
- ٢- أدى الى تصدير موريتانيا خام الحديد دون تصنيعه.
- ٣- أدى الى نمو بعض الأشجار الاستوائية التي يستخرج منها المطاط الطبيعي.
- ٤- أصبحت الصين أولى دول العالم في تربية الأغنام.

- (ب) ١- جبال الألب ٢- إقليم شمال شرق الولايات المتحدة الأمريكية ٣- البرازيل ٤- الصين

ثانياً: التاريخ

إجابة السؤال الثالث:

- (١) ١- (خطأ) أصدرت بريطانيا ٢- (خطأ) العقبة ٣- (صواب) ٤- (صواب) ٥- (صواب)
- (ب) ١- عدم الانضمام إلى أى من الكتلتين؛ الشرقية بقيادة الاتحاد السوفيتى سابقاً، والغربية بقيادة الولايات المتحدة.
- ٢- قيام الشعب بانتخاب ممثلين عنه لإدارة شئون الحكم في البلاد، وسن القوانين، ومراقبة أعمال الحكومة نيابة عنه.
- ٣- هي التي تجمع عدداً من الدول المستقلة التي ترتبط ببعضها بروابط معينة.
- (ج) حيث قامت منظمة اليونسكو بإنقاذ معابد أبو سمبل من الغرق عام ١٩٦٤ م وإحياء مكتبة الإسكندرية.

إجابة السؤال الرابع:

(١) - الفريق سعد الدين الشاذلي

٢- محمد أنور السادات

٣- جميلة حافظ

٤- محمد نجيب

(ب) ١- بسبب:

- رفض إسرائيل كل نداءات السلام بالانسحاب من الأراضي التي احتلتها في ٥ يونيو ١٩٦٧ م بموجب قرار مجلس الأمن رقم (٢٤٢).

- التصميم المصري السوري على إزالة آثار نكسة ١٩٦٧ م.

٢- لضمان حماية وأمن الممتلكات والمواطنين.

(ج) أؤيد ذلك؛ لأنه يدل على اهتمام مصر بتوطيد علاقاتها مع الدول الإفريقية، والتي استطاعت أن تحقق نجاحات كبيرة من تعاون وتكامل ومساعدة الشعوب الإفريقية للنهوض باقتصادهم.

أولاً: الجغرافيا

إجابة السؤال الأول:

(أ) ١- الشمال ٢- برلين ٣- التشيك ٤- الألب

(ب) ١- بسبب اتساع المساحة وتنوع التضاريس

٢- لأن المطاط يدخل في العديد من المنتجات الصناعية مثل إطارات السيارات.

(ج)

وجه المقارنة	البرازيل	الهند
القارة التي تنتمي إليها	• أمريكا الجنوبية.	• آسيا.
مناطق التركيز السكاني	- يتركز السكان في الساحل الجنوبي الشرقي. - وجود المدن الرئيسية مثل ريو دي جانيرو وساباؤل.	السهول الساحلية والفيضية حيث المدن الرئيسية مثل (مومباي ونيودلهي).

إجابة السؤال الثاني:

(أ) ١- الحارة ٢- الرياح ٣- بريطانيا ٤- الهضبي

(ب) • توجد علاقات قوية بين البلدين؛ حيث:

* تستورد مصر من نيجيريا:

- السلع الزراعية (خاصة الحبوب الزيتية).

* تصدر مصر إلى نيجيريا:

• الأسمدة. • المعدات الثقيلة.

• الأسلاك النحاسية. • المحولات الكهربائية.

• مواسير الألومنيوم. • الإطارات.

(ج) ١- لأنتجت مصر إنتاجاً تجارياً ضخماً عن طريق الزراعة الواسعة.

٢- لثم تصنيع البوكسيت في الدول النامية، ولم يتم تصديره بشكل خام.

ثانياً: التاريخ

إجابة السؤال الثالث:

(أ) ١- مصطفى النحاس ٢- محمد نجيب ٣- فلسطين ٤- محكمة العدل الدولية

(ب) ١- من أجل القيام بالآتي:

- المحافظة على السلام والأمن الدوليين .
- تنمية العلاقات الودية بين الدول .
- تحقيق التعاون الدولي لحل المشكلات الاقتصادية والاجتماعية والثقافية .
- تعزيز احترام حقوق الإنسان وحرياته دون تفرقة بسبب الجنس أو الدين .
- ٢- للقضاء على الجوع ومساعدة البلدان الفقيرة والنامية على تطوير وتحسين الإنتاج الزراعى والتغذية الجيدة .
- ٣- لأنها كانت مجرد مجالس استشارية فقط ، مثل : مجلس المشورة والمجلس العالى .

إجابة السؤال الرابع:

- (١) ١- حيث : - صدر فيها دستور ١٩٢٣م الذى تضمن :
- حرية تكوين الأحزاب السياسية .
 - إنشاء برلمان يمثل السلطة التشريعية ، ويتكون من مجلسين ، هما :
 - مجلس النواب - مجلس الشيوخ .
- ٢- حيث انهارت الخطوط الدفاعية والتحصينات القوية مثل خط بارليف .
- (ب) ١- أدى إلى : الاستقرار الداخلى للبلاد العربية - دفع عجلة التنمية الاقتصادية والاجتماعية وإصلاح البنية الأساسية للبلاد - تشجيع رؤوس الأموال العربية والأجنبية للاستثمار فى مصر وغيرها من الدول العربية - تنشيط السياحة وبالتالي زيادة الدخل القومى .
- ٢- أدى إلى :
- حصول المرأة المصرية على حق الانتخاب والترشح فى دستور عام ١٩٥٦م ، وأصبحت عضوة بالبرلمان المصرى .
 - تقلدت المناصب الوزارية فكانت (حكمت أبوزيد) أول وزيرة للشئون الاجتماعية عام ١٩٦٢ م .
 - شاركت المرأة المصرية أيضًا فى النقابات العمالية والمهنية والمنظمات غير الحكومية .
- (ج) حيث قامت القوات المسلحة بالوقوف بجانب الشعب المصرى ، وقامت بتأمين المواطنين والممتلكات لضمان حفظ الأمن .

أولاً: الجغرافيا

إجابة السؤال الأول:

(١) ١- النيجر

٢- غينيا

٣- بنين

٤- جوس

(ب) ١- نوع من الزراعة المتقدمة تزرع فيها الأرض أكثر من مرة في العام الواحد بهدف إشباع حاجة السكان المحليين من الغذاء، وعادة ما توجد في المناطق كثيفة السكان.

٢- عملية استخراج المعادن ومصادر الطاقة من فحم وبتروöl وغاز طبيعي من باطن الأرض، أو بالقرب من سطح الأرض.

٣- هي القوة المحركة لحياة الإنسان في جميع المجالات، وهي من الموارد الطبيعية المهمة التي لا غنى عنها على مستوى الاستخدامات البشرية المختلفة أو على مستوى الصناعة.

(ج) نتيجة انتشار التعليم في دول وسط آسيا قل عدد العاملين بالرعى البدائي، واتجهوا إلى العمل بالزراعة والصناعة والخدمات.

(د) ١- أدى ذلك إلى قلة التكاليف وقلة العمالة الزراعية.

٢- أدى ذلك إلى تصدير البوكسيت إلى الدول المتقدمة بصورة خام دون تصنيعه.

٣- أدى إلى التكامل في الجوانب الاقتصادية وحمايتها جمركياً وتدعيمها من جانب هيئة الاتحاد الأوروبي.

٤- ترتب على ذلك تمتعها بصيف معتدل مع ارتفاع درجة الحرارة كلما اتجهنا نحو الشرق، وفي فصل الشتاء تنخفض فيه درجة الحرارة إلى ما دون الصفر المئوي خاصة في الداخل وسقوط الأمطار طوال العام.

إجابة السؤال الثاني:

(١) ١- المطاط الطبيعي ٢- المياه المالحة ٣- السعودية ٤- الموسمية

(ب) ١- حيدرآباد: من أكبر مراكز الصناعات اليدوية بالهند، وتضم العديد من المراكز الإسلامية.

٢- إبيادان: تأتي في المركز الثاني في الأهمية بعد لاجوس، وتعتبر مركزاً للتجارة والتعليم والمواصلات في نيجيريا.

٣- ميونخ: عاصمة إقليم بافريا في ألمانيا العالمية، ويوجد بها مقر عدد من الشركات والمصانع الألمانية.

(ج) - لتحقيق مصر الجودة في صناعتها، يمكن اتباع بعض المقترحات التالية:

- تحسين البنية التحتية: يجب تحسين البنية التحتية للصناعة، بما في ذلك الطرق والجسور والموانئ والمطارات والشبكات اللوجستية، لتسهيل نقل المواد الخام والمنتجات النهائية.

- تطوير التعليم والتدريب: يجب تطوير التعليم والتدريب في مجالات الصناعة، لتزويد العمالة بالمهارات اللازمة لتحسين جودة المنتجات والإنتاجية.

- تشجيع الابتكار والبحث والتطوير: يجب تشجيع الابتكار والبحث والتطوير في الصناعة، لتحسين جودة المنتجات وتطوير منتجات جديدة ومبتكرة.

- تحسين الإدارة والتنظيم: يجب تحسين الإدارة والتنظيم في الصناعة، بما في ذلك تحسين إدارة الموارد البشرية والإدارة المالية والإدارة الإدارية، لتحسين جودة المنتجات والإنتاجية.
- تعزيز الصادرات: يجب تعزيز الصادرات في الصناعة، لزيادة الإيرادات، وتحسين الجودة والإنتاجية.

(د) ١-

وجه المقارنة	القمح	القطن
الأهمية	يعتبر القمح الغذاء الرئيسى لمعظم شعوب العالم؛ حيث يصنع منه الخبز والمكرونة والحلويات.	<ul style="list-style-type: none"> • يعتبر من المحاصيل المدارية المهمة لإنتاج الخيوط التي تستخدم في صناعة أجود أنواع الملابس والمنسوجات. • مصدر رئيسى لاستخراج زيت بذرة القطن. • تستخدم مخلفاته علفاً للحيوانات.
أولى القارات المنتجة	الصين - الهند	الصين - الهند

٢-

وجه المقارنة	الحديد	النحاس
الأهمية	يعد من أهم المعادن المستخدمة في الصناعة، وعرف الإنسان استخدامه منذ آلاف السنين.	يستخدم في العديد من الصناعات مثل: الأسلاك والأدوات الكهربائية.
أولى القارات المنتجة	الصين - أستراليا.	شيلي - الصين.

ثانياً: التاريخ

إجابة السؤال الثالث:

- (١) ١- (صواب) ٢- (خطأ) وافقت ٣- صواب ٤- (صواب)
- ٥- (خطأ) عدا طابا ٦- (خطأ) في حرب أكتوبر ١٩٧٣ م
- (ب) ١- استيلاء إسرائيل على (قطاع غزة والقدس العربية والضفة الغربية لنهر الأردن - سيناء حتى الضفة الشرقية لقناة السويس - هضبة الجولان بسوريا).
- ٢- أدى ذلك إلى ارتفاع الأسعار وتجمع آلاف العاملين بعد خروجهم بنظام التعاقد المبكر، وانضمامهم لصفوف البطالة من الشباب في وقفات احتجاجية، مما أدى لقيام ثورة ٢٥ يناير.

إجابة السؤال الرابع:

(١) ١- مصطفى النحاس ٢- المشير أحمد إسماعيل ٣- فريق أول عبد المنعم رياض

٤- كارتر ٥- هدى شعراوي ٦- الخديو إسماعيل

(ب) ١- عدم الانضمام إلى أى من الكتلتين الشرقية بقيادة الاتحاد السوفيتى سابقاً، والغربية بقيادة الولايات المتحدة.

٢- هى منظمة تضم عددًا من الدول المستقلة التى تربطها روابط معينة، مثل:

جامعة الدول العربية، ومنظمة المؤتمر الإسلامى، والاتحاد الإفريقى.

(ج) يجيب عنه الطالب فى ضوء دور القوات المسلحة أثناء ثورة ٢٥ يناير ٢٠١١م من حفظ الأمن وحماية الممتلكات العامة والخاصة.

أولاً: الجغرافيا

إجابة السؤال الأول:

- (١) ١- الجانج ٢- الهندى ٣- مومباى ٤- الصين
- (ب) ١- الزراعة الكثيفة ٢- المطاط الطبيعي ٣- إقليم شمال شرق الولايات المتحدة الأمريكية.
- (ج) ١- بسبب توافر مقومات صناعة الألومنيوم من: طاقة كهربائية، وخبرة علمية وفنية، وسوق محلية وخارجية تستوعب الإنتاج.
- ٢- بسبب كثافة الغابات والظروف المناخية الصعبة (القاسية).
- ٣- بسبب اتساع إقليم مناخ السهول الوسطى، وامتداده من الشمال إلى الجنوب.

إجابة السؤال الثانى:

- (١) ١- (صواب) ٢- (صواب) ٣- (خطأ) ٤- (صواب) ٥- (خطأ)
- (ب) ١- لأنه يعتبر مصدر مهم للمواد الخام الزراعية التى تدخل فى الصناعة - ترتبط بتربية الحيوان - مصدر رئيسى لغذاء الإنسان.
- ٢- الفحم والغاز الطبيعى كلاهما من مصادر الطاقة غير المتجددة، ويستخدمان فى توليد الكهرباء الحرارية.
- ٣- تعد الصناعة الحديثة مقياساً لتطور الشعوب، حيث تطورت الصناعة تطوراً مذهباً فى الدول المتقدمة، بسبب استخدام الأساليب العلمية، وتطوير المنتجات الصناعية، وتطبيق الأبحاث والتجارب العلمية فى الاختراع.

ثانياً: التاريخ

إجابة السؤال الثالث:

- (١) ١- (خطأ) ٢- (صواب) ٣- (خطأ) ٤- (صواب)
- ٥- (صواب) ٦- (صواب)
- (ب) ١- أصبح اللواء محمد نجيب مسيطراً على جميع قطاعات الجيش المصرى.
- ٢- سعت لتأييد فكرة إنشاء وطن لليهود بفلسطين بإصدار وعد بلفور ١٩١٧م.
- ٣- أدى إلى :- رفع الرقابة عن الصحف - إصدار دستور جديد للبلاد ١٩٧١م - إلغاء الحراسات والإجراءات المقيدة للحريات - القضاء على مراكز القوى - تجهيز الجيش وتسليحه بأحدث الأسلحة وتدريبه عليها.
- ٤- أدى إلى النظر فى القضايا التى تضعها الدول أمامها - تقديم الاستشارات القانونية للهيئات الدولية، وذلك مثل القضية الحدودية بين مصر وإسرائيل حول مدينة طابا، والتى حكمت بأحقية مصر لها.

إجابة السؤال الرابع:

٣- سياسة الخصخصة

٢- حرب فلسطين ١٩٤٨م

(١) ١- حركة عدم الإنحياز

٦- الرئيس عبد الفتاح السيسي

٥- جامعة الدول العربية

٤- الخديوي إسماعيل

(ب) تدخلت الولايات المتحدة الأمريكية لوقف حرب الاستنزاف؛ حيث قام وزير خارجية الولايات المتحدة الأمريكية

روجرز بتقديم مبادرة عرفت باسمه لوقف إطلاق النار والتمهيد لحل النزاع سلمياً.

(ج) ١- حيث يؤدي إلى الاستقرار الداخلي للبلاد العربية - دفع عجلة التنمية الاقتصادية والاجتماعية وإصلاح

البنية الأساسية للبلاد - تشجيع رءوس الأموال العربية والأجنبية للاستثمار في مصر وغيرها من الدول

العربية - تنشيط السياحة، مما يؤدي إلى زيادة الدخل القومي وتوفير العملات الأجنبية - إقامة مشروعات

وطنية وتحقيق التنمية في مصر بشكل خاص ومنطقتنا العربية بشكل عام.

٢- حيث تم ذلك بإغلاق خليج العقبة أمام الملاحة الإسرائيلية.

٣- حيث تولى التخطيط والتنسيق على الجبهتين بدقة عالية، وقد قاد خطة الخداع لصرف أنظار إسرائيل عن

التجهيزات الهجومية.

أولاً: الجغرافيا

إجابة السؤال الأول:

- (١) ١- بسيطة (بدائية) ٢- أستراليا ٣- شمال شرق الولايات المتحدة الأمريكية ٤- الهند
(ب) ١- بسبب توافر مصائد على المحيط الهادى والأنهار والبحيرات ومزارع تربية الأسماك.
٢- بسبب تحريم الديانة الهندوسية أكل لحوم الأبقار.
(ج) ١- لاجوس ٢- المطاط الطبيعى

إجابة السؤال الثانى:

- (١) ١- قصب السكر ٢- آسيا ٣- برلين ٤- السعودية
٥- الرياح ٦- تشاد
(ب) ١- بسبب توافر مقومات صناعة الألومنيوم من: طاقة كهربائية، وخبرة علمية وفنية، وسوق محلية وخارجية تستوعب الإنتاج.
٢- بسبب مشروعات توطين البدو وتدفق البترول.

ثانياً: التاريخ

إجابة السؤال الثالث:

- (١) ١- إلغاء الملكية وإعلان الجمهورية ٢- تقسيم فلسطين ٣- خليج العقبة
٤- التحكيم الدولى ٥- محكمة العدل الدولية.
(ب) ١- حيث حصل الحزب الوطنى الحاكم على نسبة ٩٧ ٪ من المقاعد، وبهذا خلا المجلس من وجود أى معارضة.
٢- حيث شاركت مصر فى تأسيسه بعد تحرير الكثير من الدول الإفريقية، وقد استضافت مصر أول قمة إفريقية على أرضها سنة ١٩٦٤ م.
(ج) لم يتم التوصل إلى اتفاق للسلام بين مصر وإسرائيل.

إجابة السؤال الرابع:

- (١) ١- جمال عبد الناصر ٢- روجرز ٣- أحمد إسماعيل
٤- الخديو إسماعيل ٥- حكمت أبو زيد
(ب) ١- ولد بها السيد المسيح عليه السلام، وإليها أسرى بمحمد ﷺ، ويوجد بها المسجد الأقصى أولى القبلتين وثالث الحرمين.
٢- السماح بهجرة الكثير من يهود العالم إلى فلسطين - السماح بانتقال ملكية الأرض من عرب فلسطين إلى اليهود عن طريق الشراء.
٣- أيدت مصر الاتفاقية وما حدث من اتفاقيات أخرى والتي تتعلق بالانسحاب الإسرائيلى من الأرض المحتلة وإقامة السلطة الوطنية الفلسطينية.

أولاً: الجغرافيا

إجابة السؤال الأول:

(١) ١- برازيليا

٢- الجدى

٣- الأمزون

٤- الأطلنطى

(ب) ١- بسبب انتشار التعليم وتغير نشاطهم للعمل في الصناعة والزراعة والخدمات.

٢- لأنها تعد المحرك لحياة الإنسان التى لا غنى عنها، سواء على مستوى الصناعة أو على مستوى الاستخدامات البشرية المختلفة.

٣- بسبب زيادة الطلب عليه وتعدد استخداماته، لأنه من الموارد القابلة للنفاذ.

٤- بسبب استخدام أحدث الآلات الزراعية والطرق العلمية الحديثة.

(ج) ١- الصين

٢- البوكسيت

٣- الحيتان

٤- أوروبا

إجابة السؤال الثانى:

(١) ١- فرنسا

٢- البحث

٣- ماليزيا

٤- اللحوم الحمراء ٥- أمريكا الشمالية

(ب)

وجه المقارنة	الغابات	أهم المحاصيل	العاصمة	ما تصدره لمصر
البرازيل	تسود الغابات الاستوائية فى حوض الأمزون، وتعد أكبر غابة استوائية فى العالم.	البن وقصب السكر.	برازيليا.	الحبوب الغذائية (خاصة الزيتية) - السكر - المعادن (خاصة الحديد) - اللحوم - البن.
ألمانيا	تغطى الغابات ثلث مساحة ألمانيا، وتعد مصدراً للأخشاب وأهمها: الغابات النفضية والغابات المخروطية.	القمح - الشعير - بنجر السكر.	برلين.	الصناعات الكيماوية - الآلات - السيارات .. وغيرها.

(ج) يجيب عنه الطالب في ضوء الاقتراحات الآتية:

- تعزيز الاستثمار في البنية التحتية الزراعية، مثل الري والصرف والتسميد، لزيادة الإنتاجية وتحسين جودة المحاصيل.
- دعم الفلاحين وتوفير التدريب والمعرفة الزراعية لاعتماد أساليب زراعية مستدامة وفعالة.
- تشجيع التنوع في المحاصيل وتحسين تسويق المنتجات الزراعية لتحقيق توازن في الإنتاج والاستهلاك.
- تعزيز البحث العلمي وتطوير سلالات نباتية محسنة ومقاومة للأمراض والظروف البيئية القاسية.
- تعزيز الاستدامة البيئية وحماية الموارد الطبيعية من خلال ممارسات زراعية مستدامة.

ثانياً: التاريخ

إجابة السؤال الثالث:

- (١) ١- محمد أنور السادات ٢- عدلى منصور ٣- الخديو إسماعيل ٤- محمد نجيب
- (ب) ١- وذلك من خلال تحقيق مجانية التعليم بجميع مراحله.
- ٢- حيث أنقذت معابد أبو سمبل من الغرق عام ١٩٦٤ م.
- ٣- حيث قام بالتهديد بالتدخل عسكرياً لوقف العدوان.

إجابة السؤال الرابع:

- (١) ١- فاروق ٢- الإقليمية ٣- الريحانة ٤- آمال عثمان ٥- الطوارئ
- (ب) ١- عن طريق تصفية الخلافات العربية وتوحيد الصف العربى.
- ٢- رفضت الدول العربية مشروع التقسيم.
- ٣- هضبة الجولان.
- ٤- حظر تصدير البترول إلى الولايات المتحدة الأمريكية وخفض إنتاجه.
- ٥- يجيب عنه الطالب في ضوء كيفية استعادة مصر لطاها وأهمية المحافظة على أرض الوطن.

أولاً: الجغرافيا

إجابة السؤال الأول:

- (أ) ١- البلطى ٢- الدانمارك ٣- برلين ٤- الألب
(ب) ١- بنين ٢- في الجنوب بدلتا نهر النيجر ٣- لوجود المراعى (حشائش السافانا)
(ج) ١- القمح ٢- الخنازير ٣- الأطلنطى

إجابة السؤال الثانى:

- (أ) ١- المطاط الطبيعى ٢- شيلى ٣- الأيدى العاملة الماهرة ٤- شرق آسيا
(ب) ١- بسبب امتلاكها سواحل طويلة على المحيط الأطلنطى والبحر الكاريبى ونهرا الأمزون.
٢- يرجع ذلك إلى عدة أسباب وهى:
- يعد من مصادر الطاقة الأقل تلويثاً والرخيصة فى العالم.
- أصبح يستخدم على نطاق واسع فى الصناعة والاستخدامات المنزلية، ويستخدم فى توليد الطاقة الكهربائية ووقود للسيارات بديلاً عن البنزين للحد من التلوث البيئى.
- أصبح يمثل ٢٥٪ من مصادر الوقود فى العالم.
٣- لأنها تساهم بمنتجاتها من اللحوم والبيض فى سد حاجة السكان من الغذاء.

ثانياً: التاريخ

إجابة السؤال الثالث:

- (أ) ١- محمد أنور السادات ٢- سان ريمو ٣- شورى القوانين ٤- الثالثة
(ب) ١- حيث قامت الثورة بتحديد ساعات العمل، وإشراك العمال فى مجالس إدارة الشركات والمصانع، وتحديد نسبة لهم من الأرباح، وأصدرت قوانين للتأمينات الاجتماعية والمعاشات للموظفين والعمال.
٢- حيث امتنعت عن التصويت، وأعلنت أنها ستسحب قواتها وتنهى انتدابها على فلسطين لتنفيذ قرار التقسيم.
٣- حيث تم انهيار الخطوط الدفاعية والتحصينات القوية الإسرائيلية مثل خط بارليف.
٤- حيث أحالت قضية طابا إلى هيئة التحكيم الدولى (محكمة العدل الدولية) والى حكمت لمصر باسترداد طابا.
(ج) ١- لم تقم فرنسا بالعدوان على مصر مع بريطانيا وإسرائيل فيما يعرف بالعدوان الثلاثى على مصر.
٢- لم تحم الممتلكات العامة والخاصة، وزادت عمليات السرقة والنهب.

إجابة السؤال الرابع:

- (أ) ١- الملك فاروق ٢- جمال عبد الناصر ٣- محمد أنور السادات ٤- محمد حسنى مبارك
(ب) ١- لوقف إطلاق النار تمهيداً لحل النزاع سلمياً بين مصر وإسرائيل.
٢- لإنهاء الصراع العربى الإسرائيلى سلمياً.
٣- لأنها تضم فى عضويتها دول العالم المستقلة وإن لم تربطها ببعض روابط معينة.
(ج) ١- منح المرأة حق الترشح والانتخاب لمجلس الأمة عام ١٩٥٦ م.
٢- ترتب على ذلك إنقاذ معبد أبو سمبل فى عام ١٩٦٤ م لتجنب تعرضها للغرق - إحياء مكتبة الإسكندرية.
(د) يجيب عنه الطالب فى ضوء حب الوطن والدفاع عنه مهما كلف الأمر.