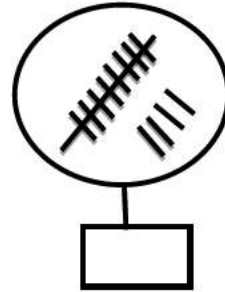
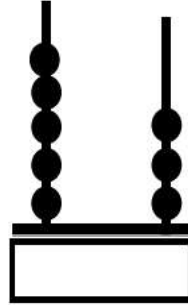
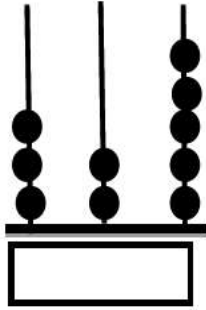


اختبار تشخيصي في مادة الرياضيات

للفف الثالث

اسم الطالب / الصف

السؤال الأول: أ) اكتب العدد الدال على الرسم.



ب) اكتب رمز العدد الدال على اللفف .

أربعمئة واثناء عشر

تسعمئة

سبعون

ج) اكتب لفظ العدد الدال على رمز كل عدد من الأعداد التالية:

٢٠٠

١٣٥

٤٨

السؤال الثاني: أ) اكتب العدد المناسب في الصندوق.

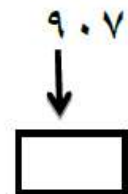
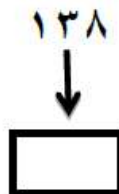
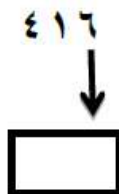
$$\boxed{} \text{ مئات } + \boxed{} \text{ عشرات } + \boxed{} \text{ آحاد } = ١٤٦$$

$$\boxed{} + \boxed{} + \boxed{} = ٣٠٩$$

$$\boxed{} = ٥ \text{ آحاد } + ٢ \text{ مئات } + ١ \text{ عشرات}$$

$$\boxed{} = ٣٠٠ + ٦٠ + ٨$$

ب) اكتب قيمة الرقم المشار إليه:



٣- رتب الاعداد تصاعديا :-

١٨٩ ، ٤٥٣ ، ٢٣٥ ، ٣٤٥

..... , , ,

٤- جد ناتج ما يلي :-

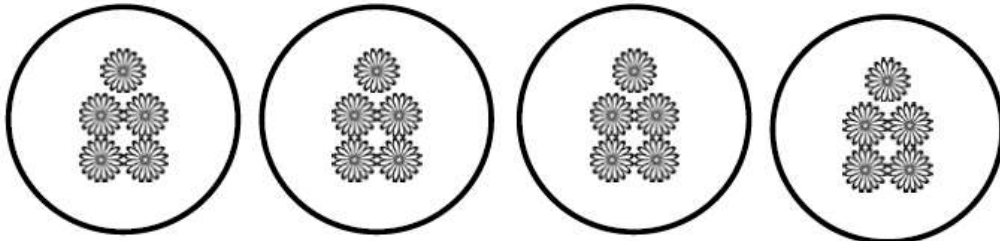
| | |
|----------------------|---|
| ٩٠٠ | - |
| ٢٣٥ | |
| <input type="text"/> | |

| | |
|----------------------|---|
| ٨٥٦ | - |
| ٢٠٤ | |
| <input type="text"/> | |

| | |
|----------------------|---|
| ٣٦٧ | + |
| ٢٤٥ | |
| <input type="text"/> | |


| | |
|----------------------|---|
| ٥١٢ | + |
| ١٤٠ | |
| <input type="text"/> | |

٥- أ- عبر بجملة ضرب :-



| | | | | |
|----------------------|---|----------------------|---|----------------------|
| <input type="text"/> | = | <input type="text"/> | × | <input type="text"/> |
|----------------------|---|----------------------|---|----------------------|

ب عبر عما يلي بمعادلة قسمة.



| | | | | |
|----------------------|---|----------------------|---|----------------------|
| <input type="text"/> | = | <input type="text"/> | ÷ | <input type="text"/> |
|----------------------|---|----------------------|---|----------------------|

بالتوفيق لكم