



Teacher_huda




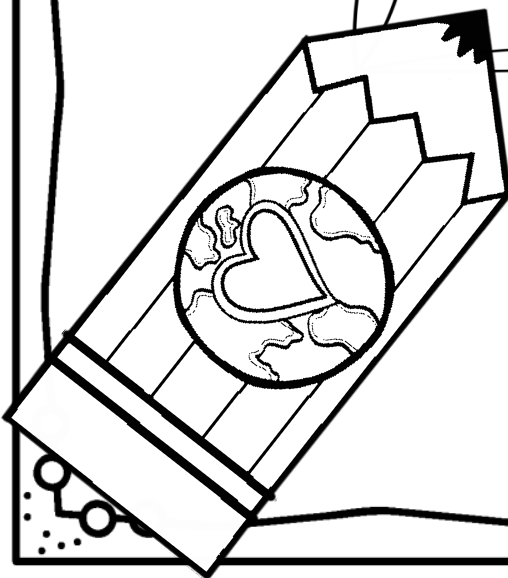
الإجابة النموذجية
لكراسة الأرض السعيدة
للصف الثالث الابتدائي

مادة الاجتماعيات
الفصل الدراسي الأول

الاسم: _____

الصف: ثالث \ _____

إعداد وتصميم الأستاذة هدى عبدالعزيز



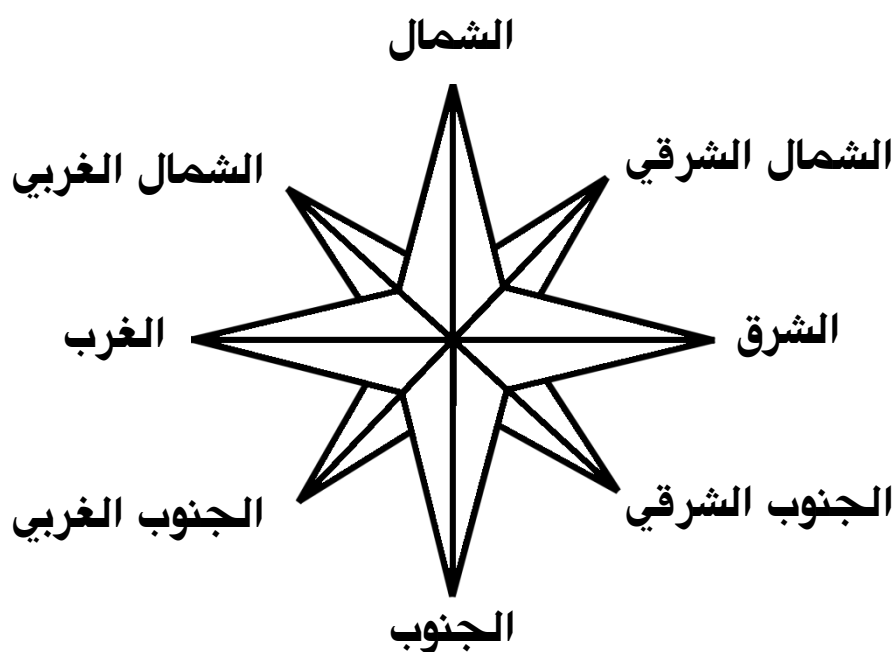
الجهات الأصلية والفرعية

السؤال (١) : أملأ الفراغ بما يناسبه :

المخطط	وردة الجهات	مفتاح المخطط
--------	-------------	--------------

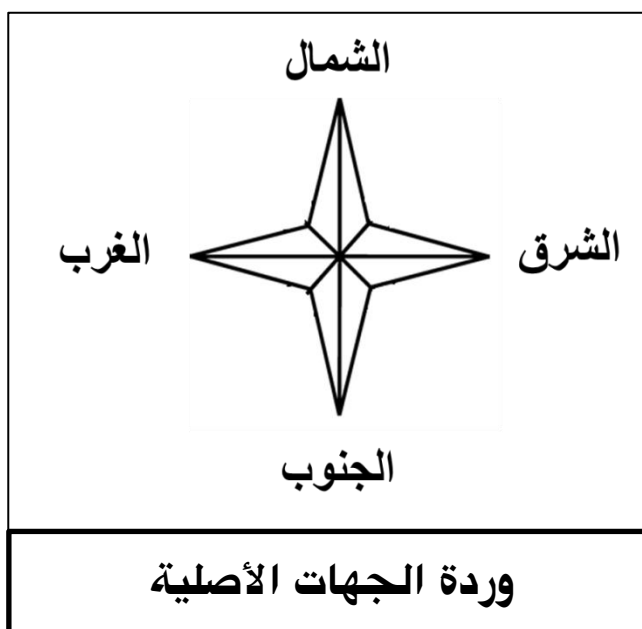
المخطط	رسم مبسط ومصغر للأشياء كما نراها من الأعلى .
مفتاح المخطط	يستخدم لقراءة المخطط وتحديد مواقع الأماكن .
وردة الجهات	تستخدم لمعرفة الاتجاهات .

السؤال (٢) : أكتب على الرسم أسماء الجهات الأصلية باللون الأحمر والجهات الفرعية باللون الأخضر في أماكنها الصحيحة .



الجهات الأصلية والفرعية

السؤال (٣) : أحدد اسم وردة الجهات التالية ثم أجيب عن الأسئلة :



الشرق

• ما اسم الجهة التي تشرق منها الشمس ؟

الغرب

• ما اسم الجهة التي تغرب منها الشمس ؟

الشمال الشرقي

• ما اسم الجهة التي تقع بين الشمال والشرق ؟

الجنوب الشرقي

• ما اسم الجهة التي تقع بين الجنوب والشرق ؟

الشمال الغربي

• ما اسم الجهة التي تقع بين الشمال والغرب ؟

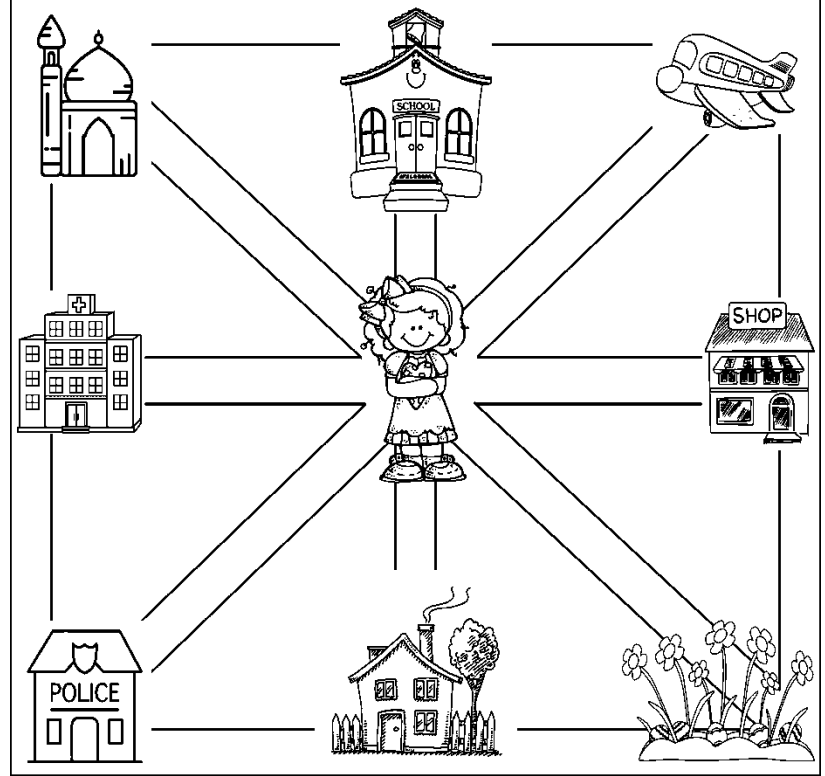
الجنوب الغربي

• ما اسم الجهة التي تقع بين الجنوب والغرب ؟

الجهات الأصلية والفرعية

السؤال (٤) : أجب عن الأسئلة بالاستعانة بمخطط مدينة صوفيا :

مفتاح مخطط مدينة صوفيا



الجنوب

• في أي جهة يقع منزل صوفيا ؟

المدرسة

• ما اسم المكان الذي يقع في جهة الشمال ؟

المستشفى

• ما اسم المكان الذي يقع في جهة الغرب ؟

الشمال الشرقي

• أين يقع المطار ؟

المسجد

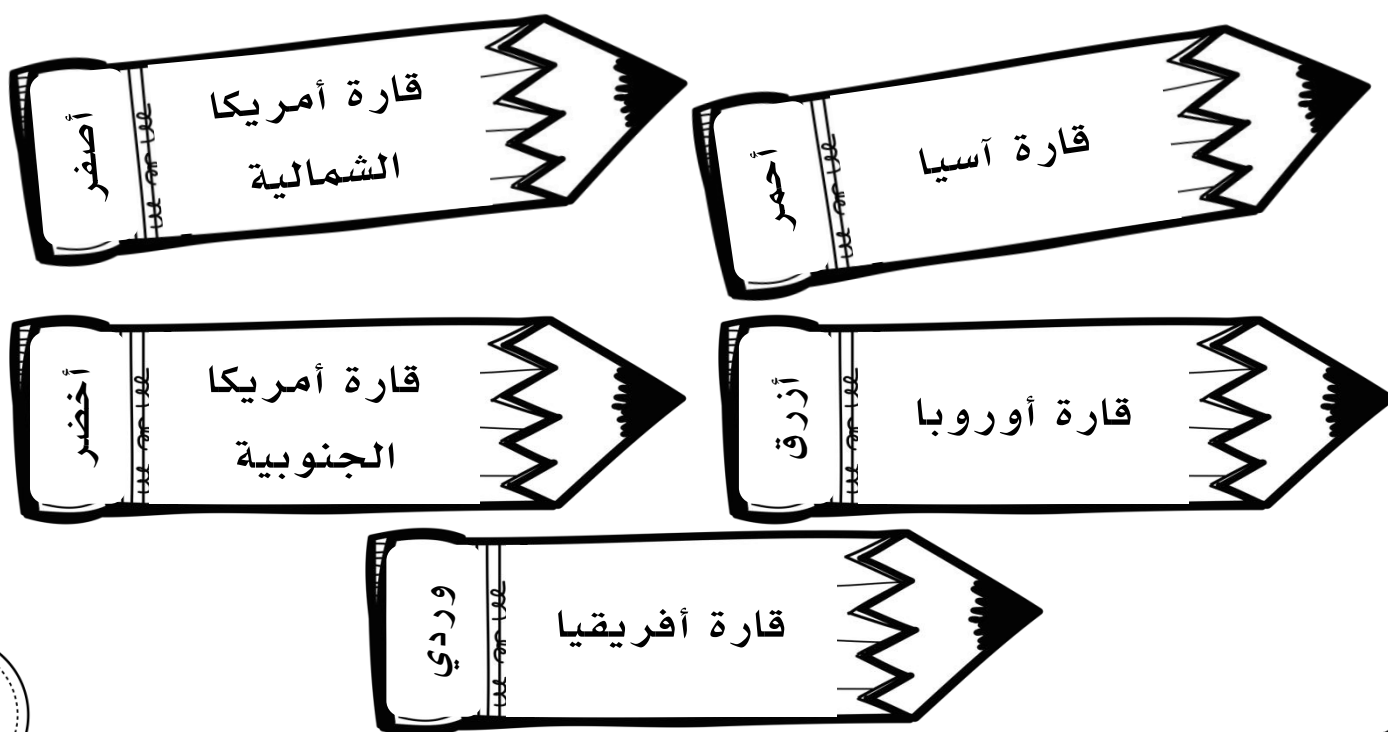
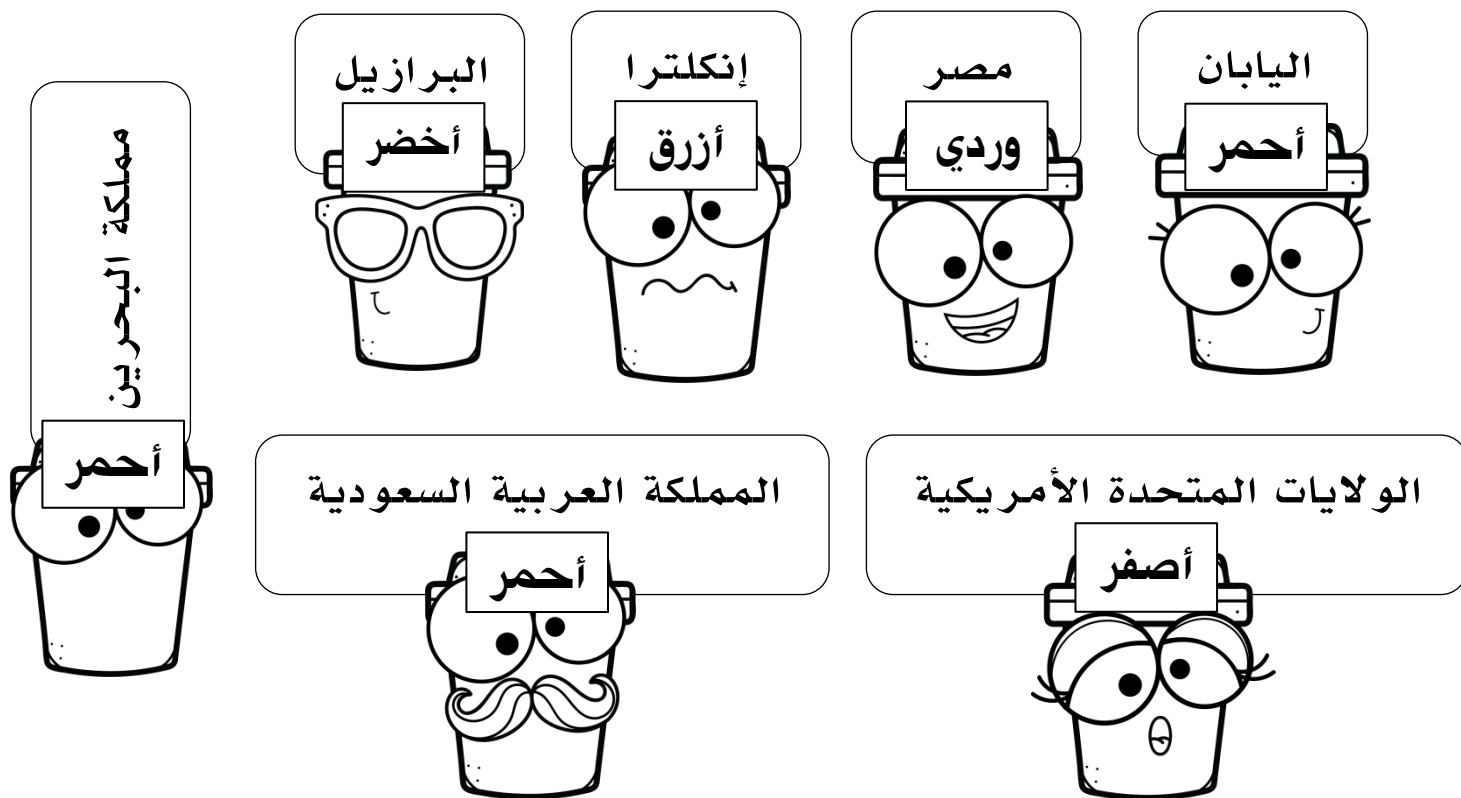
• ما اسم المكان الذي يقع في الشمال الغربي ؟

الجنوب الغربي

• في أي جهة يقع مركز الشرطة ؟

كوكب الأرض

السؤال (١) : ألون المنطقة بالقارة التي تقع فيها بنفس اللون :

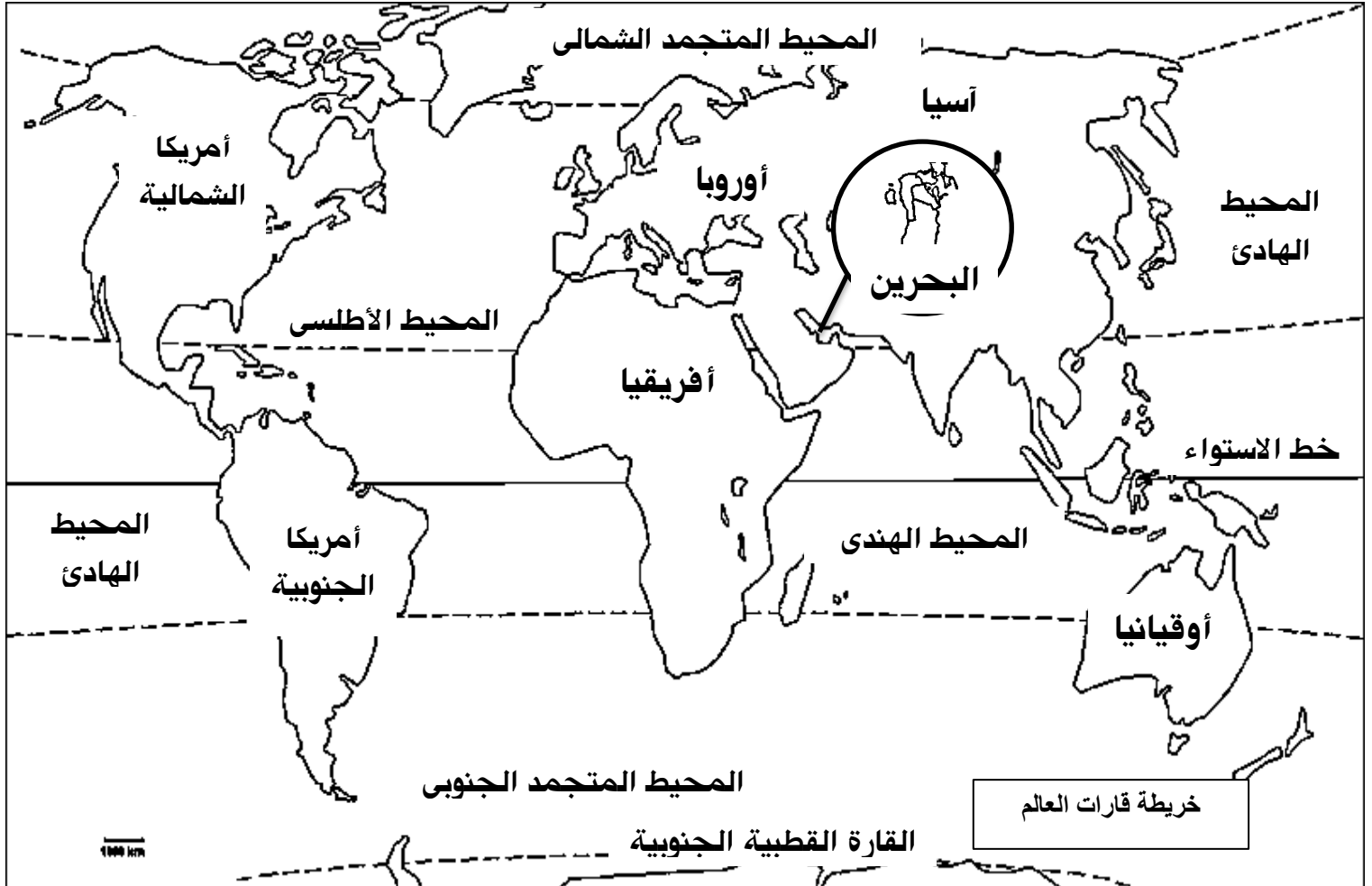


كوكب الأرض

التاريخ

السؤال (٢) : أضع في المكان المناسب على الخريطة :

١. أسماء القارات : آسيا \ أوروبا \ أفريقيا \ أوقيانيا \ أمريكا الشمالية \ أمريكا الجنوبية
٢. أسماء المحيطات : المحيط الأطلسي \ المحيط الهندي \ المحيط الهادئ \ المحيط المتجمد الشمالي
٣. اسم خط الاستواء .



كوكب الأرض

السؤال (٣) : ألون الكرة الأرضية بحسب ما يلي ثم أكتب اسم أقطابها :

١. النصف الشمالي باللون الأحمر .
٢. النصف الجنوبي باللون الأصفر .
٣. خط الاستواء باللون الأزرق .



السؤال (٤) : ألون العبارة الصحيحة باللون الأخضر بينما ألون

العبارة الخطأ باللون الأحمر :


في العالم سبع قارات .

القارة مساحة ضيقة من اليابسة .

المحيط أكبر من البحر .

تقسم الكرة الأرضية إلى قسمين متساويين .

يفصل بين نصفي الكرة الأرضية خط يسمى بخط السرطان .



أشكال سطح الأرض ١

السؤال (١) : أصل بين كل شكل من أشكال سطح الأرض بالصورة التي تدل عليه :



السهل

الجبل

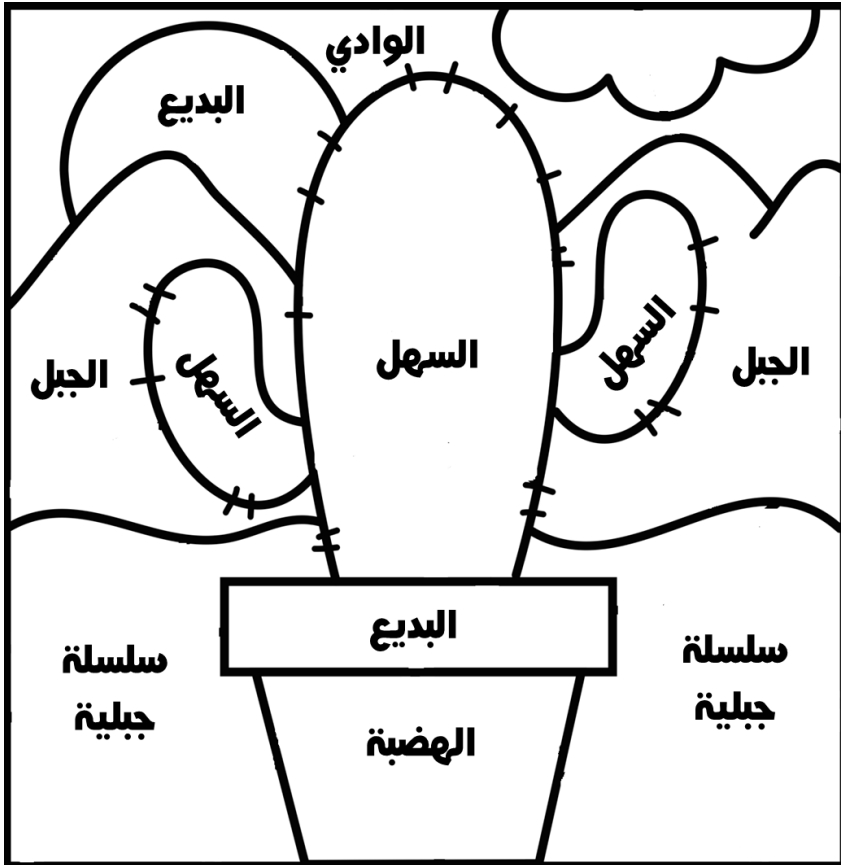
الوادي

الهضبة

سلسلة جبلية

أشكال سطح الأرض ١

السؤال (٢) : ألون المصطلحات في الرسم بحسب لون معناها المناسب :



الوادي

أزرق

مكان منخفض بين مرتفعين

البديع

أصفر

يتواجد فيها أراضي سهلية

سلسلة جبلية

برتقالي

اتصال مجموعة من الجبال بعضها ببعض .

السهل

أخضر

أرض منبسطة يسهل السكن ، الزراعة ، والتنقل عليها .

الجل

بني

أرض مرتفعة جداً تشرف على ما حولها من سطح الأرض .

الهضبة

بنفسجي

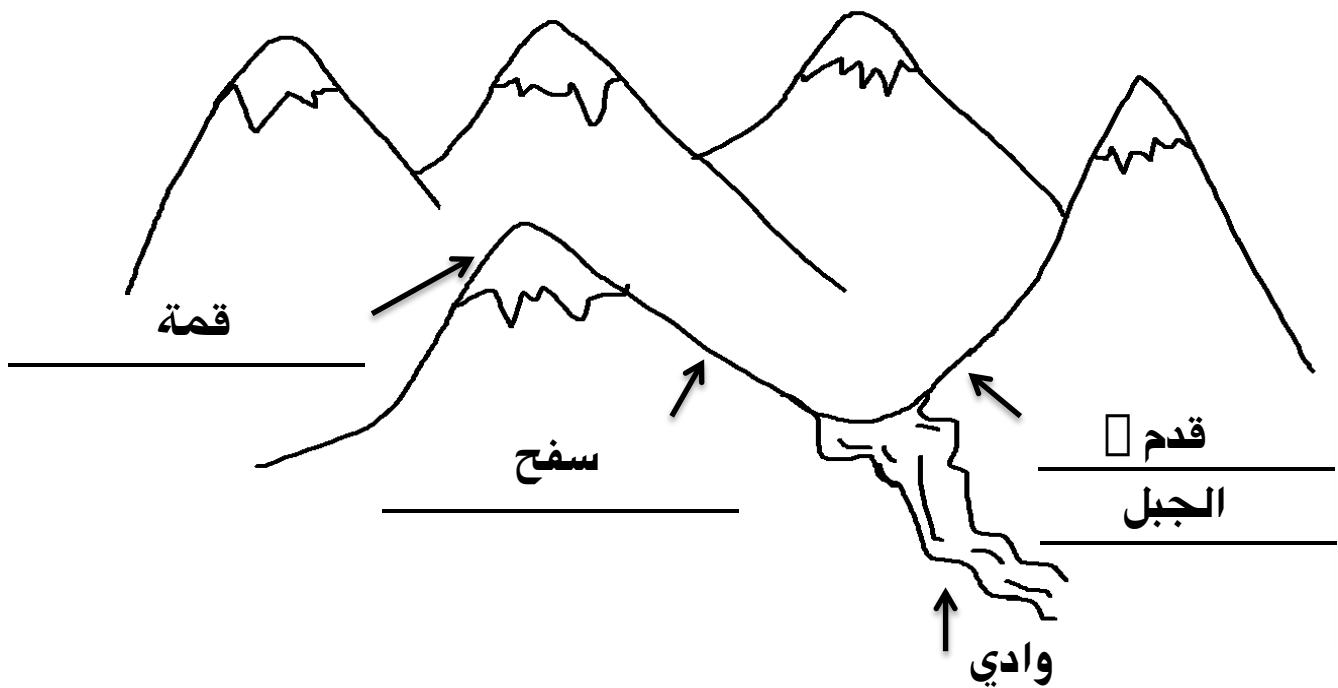
أرض منبسطة ومرتفعة تتخلها أودية عميقة تصلح للزراعة والسكن .

أشكال سطح الأرض ١

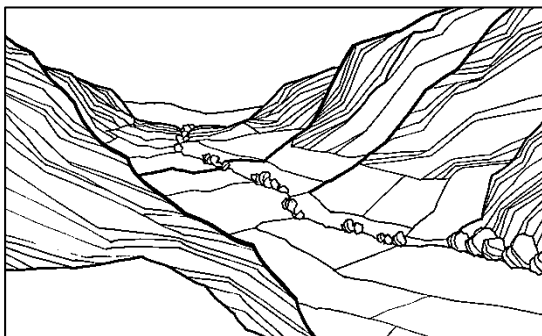
السؤال (٣) : أكتب أقسام الجبل التالي :

وادي \ سفح \ سلسلة جبلية \ قدم الجبل \ قمة

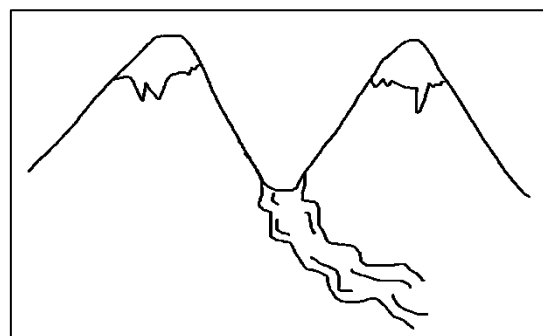
سلسلة جبلية



السؤال (٤) : أملأ الفراغ بما يناسبه: (وادٍ جاف \ وادٍ يجري به نهر)



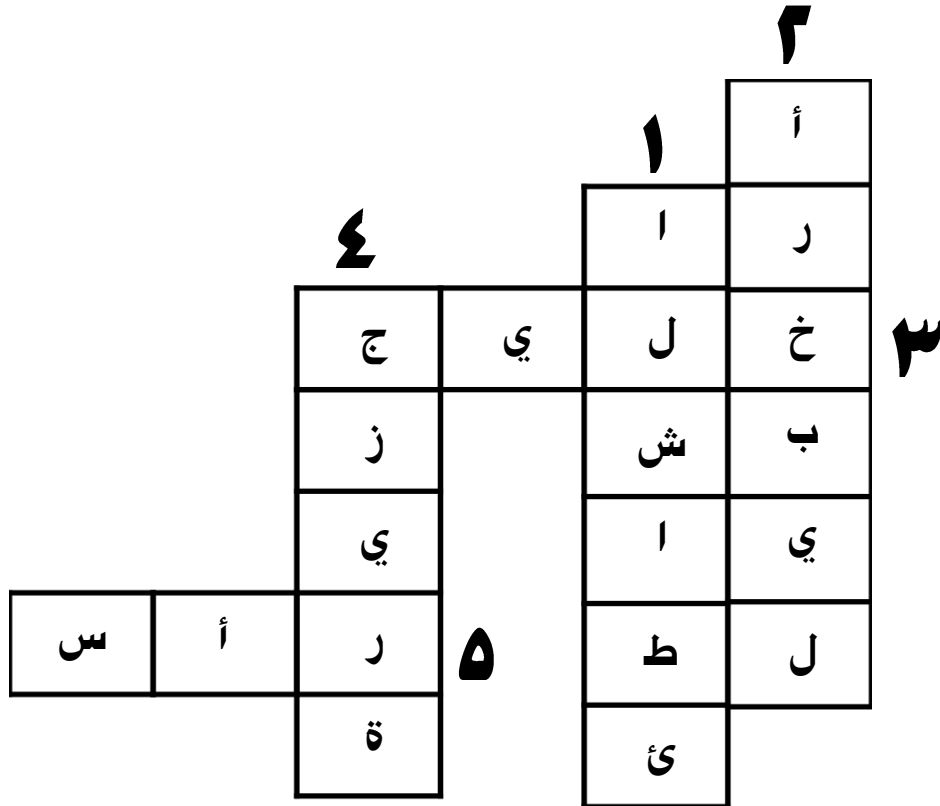
وادٍ جاف



وادٍ يجري به نهر

أشكال سطح الأرض ٢

السؤال (١) : أجد الكلمات المتقاطعة :



١ - قسم من اليابسة متصل بالبحر .

٢ - مجموعة من الجزر المتجاورة .

٣ - تقدم جزء من البحر إلى اليابسة .

٤ - قطعة من اليابسة تحيط بها الماء من كل الجهات .

٥ - تقدم جزء من اليابسة في البحر .

أشكال سطح الأرض ٢

السؤال (٢) : أملأ البطاقات التعريفية لصديقتنا مملكة البحرين :



*هل أنا جزيرة؟ ☒ نعم \ لا

*هل أنا أرخبيل؟ ☒ نعم \ لا

الخلجان

خليج الكاب

خليج القليعة

الجزر

جزر حوار

أم النعسان

سترة

المحرق

الرؤوس

رأس الزلاق

رأس أبو جرجور

رأس حيان

رأس البر

أشكال سطح الأرض ٢

السؤال (٣) : أرسم شكل موقع كل من الآتي بالاستعانة بخريطة مملكة البحرين :

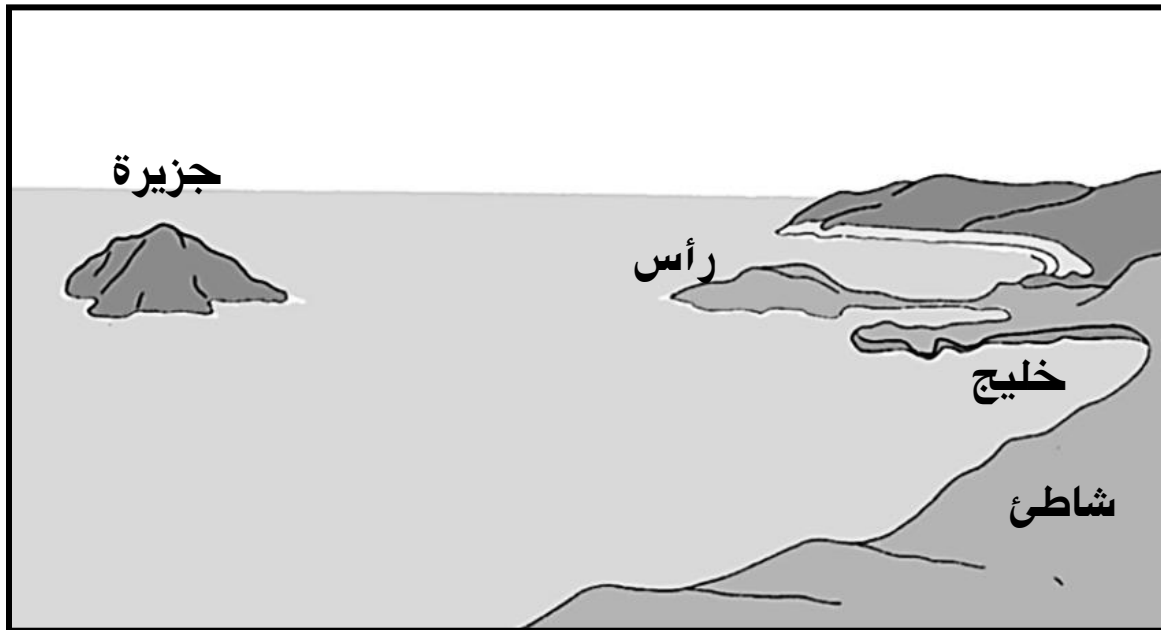



الخلجان	
خليج القليعة	△
خليج الكاب	×
الرؤوس	
رأس أبو جرجور	☁
رأس حيان	☾
رأس الزلاق	○
رأس البر	😊
الجزر	
جزر حوار	□
أم النعسان	★
المحرق	♥

أشكال سطح الأرض ٢

السؤال (٤) : أضع في المكان المناسب الكلمات الآتية :

رأس \ خليج \ شاطئ \ جزيرة




السؤال (٥) : ما سبب تعرّج الشاطئ ؟

حركة أمواج البحر باتجاه الشاطئ تسبب

تفتت الصخور وبروز أشكال متنوعة فيتعرّج

الشاطئ مكوناً رؤوس وخلجان





موارد الأرض في البر

السؤال (١) : أحوّل الكلمات التي تدلّ على حاجات الإنسان ثم أكتبها في



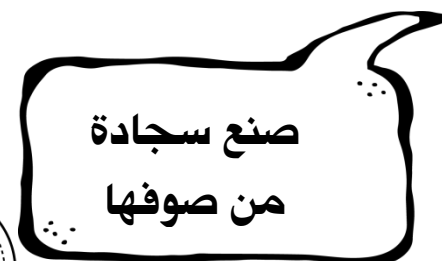




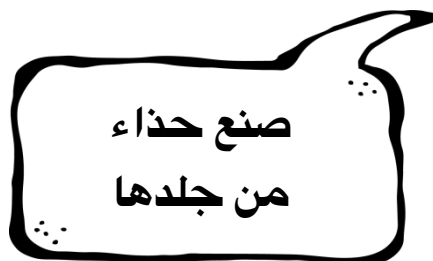


الفراغ : 

س	ب	ا	ي	ث
ي	خ	ب	ك	ج
ا	ن	ك	س	م
ر	ر	ق	ط	ط
ة	ء	ا	م	ع
ض	ق	ر	و	ا
ث	ا	ث	أ	م




موارد الأرض في البر

السؤال (٢) : أكتب الحاجات التي أحصل عليها من خلال موارد الأرض التالية :




موارد الأرض في البر



الأثاث

الورق

أنا الغابة



أنا المعادن



طاقة توليد الكهرباء
أسمدة كيميائية




الفحم الحجري

صابون \ ثياب
\ بلاستيك \ بنزين



النفط

أسلاك كهربائية
وحلي



النحاس

سيارة \ دراجة
\ آلات



الحديد

موارد الأرض في البر

السؤال (٣) : أملأ الفراغ بما يناسبه من كلمات :

من موارد الأرض :

الماء \ الأعشاب \

الغابات \ المعادن

ما يحصل عليه الإنسان من البر

والبحر يسمى

موارد الأرض

هذه دورة :

الماء

من الموارد الموجودة في باطن

الأرض :


المعادن \ النفط والغاز الطبيعي



للحصول على المعادن يحضر

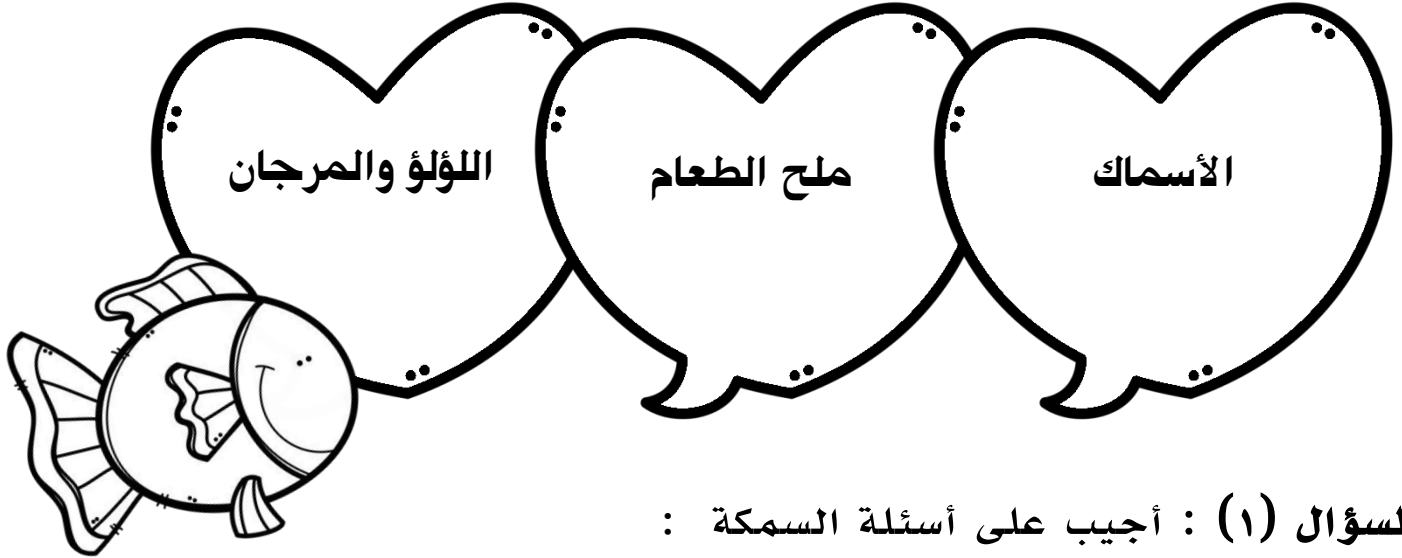
الإنسان أنفاقاً في الأرض تسمى

المناجم



موارد الأرض في البحر

السؤال (١) : أذكر ثلاثة من موارد البحر :



السؤال (١) : أجب على أسئلة السمكة :



ما هي أدوات الصيد ؟ الشبكة \ القرقور \ الصنارة \ الحظرة

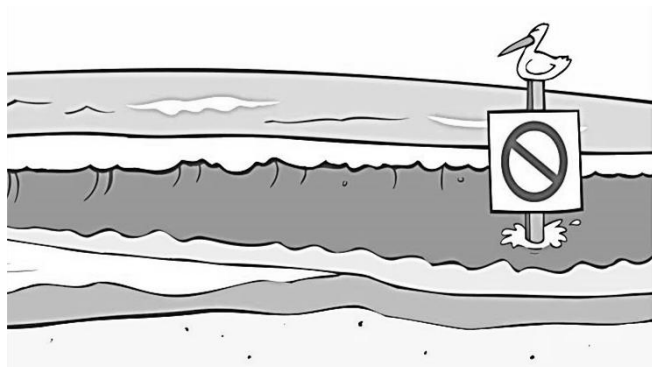

ماذا يحدث في الحظرة عندما تتقدم مياه البحر نحو الشاطئ ؟
تحمل المياه الأسماك إلى داخل الحظرة

وماذا يحدث عندما تتراجع المياه ؟ تتعلق الأسماك بالحظرة

ماذا أسمي حركة تقدم المياه وتراجعها ؟ المد والجزر


موارد الأرض في البحر

تابع السؤال : أجب على أسئلة السمكة فرفوشة :



هذه صورة ساحل البحر
أثناء الجزر

هذه صورة ساحل البحر
أثناء المد




السؤال (٢) : أكمل حديث مستر ملح :



يستعمل الإنسان الملح في الطعام ، فمياه البحر
المالحة تؤمن جزءاً كبيراً من الملح .

يحصل الإنسان على ملح الطعام من الملاحنة التي يقيها
عند الشواطئ .


موارد الأرض في البحر



السؤال (٣) : أكمل حديث لولو مرجانة :

تتضمن مياه البحار على اللؤلؤ ، و المرجان .
يستخرجه الصيادون من قاع البحر . يستعمله
الإنسان في صناعة الحلي .

بلادنا مملكة البحرين مشهورة بـ اللؤلؤ



السؤال (٤) : أملأ البطاقات التالية بما يناسبها :

النشاطات التي يمارسها
الإنسان على شواطئ
البحار

السباحة

السياحة


الراحة والرياضة

من موانئ بلادنا
ميناء سلمان

ميناء خليفة


تستخدم من أجل
الملاحة

والمواصلات



موارد الأرض


ألون موارد البر باللون الأخضر بينما ألون موارد البحر باللون الأزرق :




أزرق



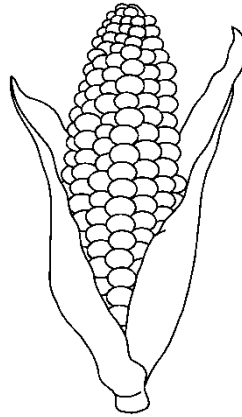
أخضر




أخضر




أزرق



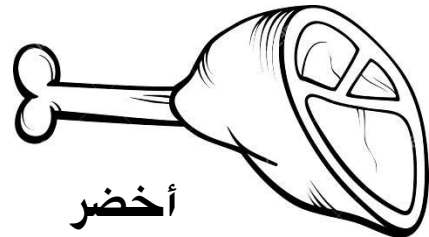
أخضر



أزرق



أخضر



أخضر

من منتوجات بلادي

السؤال (١) : أعدد ثلاثة من منتوجات بلادي :



السؤال (٢) : أجب على الأسئلة التالية :



• ما الذي يجعل أرض بلادي صالحة للزراعة ؟

• التربة الخصبة الماء العذب

• كيف ينتج المزارع المحاصيل الزراعية ؟

• يقوم المزارع بحراثة الأرض وزراعتها ويرويها بالماء

• يعتني بالمزروعات ويستعمل الأسمدة لزيادة المحاصيل

• ما معنى المحاصيل الزراعية ؟

• هي ما نحصل عليه من الزراعة

من منتوجات بلادي

السؤال (٣) : أملأ الفراغ بما يناسبه :

• مزارع مملكة البحرين الحديثة مجهزة بـ :

• علف

• ماء

• مكيفات

• تحول المصانع المنتوجات الحيوانية إلى :

• مصنوعات حيوانية



• مصادر الطاقة في مملكة البحرين هي :

• النفط

• الغاز

• من استخدامات مصادر الطاقة :


• تشغيل محطات الكهرباء

• من استخدامات الكهرباء : الإنارة وتشغيل آلات المصانع



من منتوجات بلادي

السؤال (٤) : ألون الصور التالية بحسب اللون المحدد لنوعها :



بنفسجي

المحاصيل الزراعية

المزارع الحديثة

المنتوجات الحيوانية

مصنوعات غذائية

تبنى من أموال بيع النفط

أزرق

أصفر

برتقالي

أخضر

بنفسجي



برتقالي



أخضر



أزرق




برتقالي



أصفر



أخضر



بنفسجي




برتقالي



أزرق



أصفر



أخضر